



愛知川小 5分間ステップアップ学習

名前 ()

【学習名】 あわせていくつ ふえるといくつ	 90点以上で合格
【学習のめあて】 あわせるばめんのたしざんができる。	
【ふりかえり】 ◎よくわかる ○わかる △わからない	

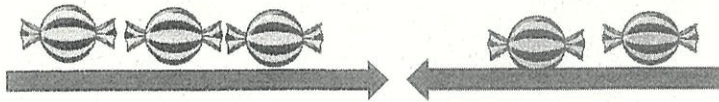
① ぜんぶでいくつ?



$$1 + 3 = 4$$

こたえ 4 こ

② ぜんぶでいくつ?



$$3 + 2 = 5$$

こたえ 5 こ

③ ぜんぶでいくつ?



$$3 + 4 = 7$$

こたえ 7 こ

④ しろい あめが 3つあります。 きいろい あめが 5つあります。
あめはぜんぶで なんこ ありますか?

しき $3 + 5 = 8$

こたえ 8 こ

⑤ くろい ねこが 2ひきいます。 しろい ねこが 5ひきいます。
ねこはぜんぶで なんびきですか?

しき $2 + 5 = 7$

こたえ 7 ひき