



# 愛知川小 5分間ステップアップ学習

名前 ( )


【学習名】 10より大きいかず	 <small>てんじょうごうかく</small> 90点以上で合格
【学習のめあて】 20までのかずをかぞえたりよんだりかいたりできる。	
【ふりかえり】      ◎よくわかる      ○わかる      △わからない	

①かずを かぞえましょう。





こ

②かずを かぞえましょう。 ③かずを かきましょう。



こ




④ □に あてはまる かずを かきましょう。

- |   |   |
|---|---|
| ① 10 と 4 で <input style="width: 50px; height: 30px;" type="text"/>  | ④ 17 は 10 と <input style="width: 50px; height: 30px;" type="text"/> |
| ② 10 と 8 で <input style="width: 50px; height: 30px;" type="text"/>  | ⑤ 20 は 10 と <input style="width: 50px; height: 30px;" type="text"/> |
| ③ 10 と 10 で <input style="width: 50px; height: 30px;" type="text"/> | ⑥ 19 は 10 と <input style="width: 50px; height: 30px;" type="text"/> |


□ 各10点

# 愛知川小 5分間ステップアップ学習

名前 ( )


【学習名】 10より大きいかず	 <small>てんじょう ごかく</small> 90点以上で合格
【学習のめあて】 20までのかずをかぞえたりよんだりかいたりできる。	
【ふりかえり】 ◎よくわかる    ○わかる    △わからない	

①かずをかぞえましょう。




16 こ

②かずをかぞえましょう。 ③かずをかきましょう。



14 こ



13



20

④ □にあてはまるかずをかきましょう。

- |   |   |
|---|---|
| ① 10 と 4 で <span style="border: 1px solid black; padding: 2px 10px;">14</span>  | ④ 17 は 10 と <span style="border: 1px solid black; padding: 2px 10px;">7</span>  |
| ② 10 と 8 で <span style="border: 1px solid black; padding: 2px 10px;">18</span>  | ⑤ 20 は 10 と <span style="border: 1px solid black; padding: 2px 10px;">10</span> |
| ③ 10 と 10 で <span style="border: 1px solid black; padding: 2px 10px;">20</span> | ⑥ 19 は 10 と <span style="border: 1px solid black; padding: 2px 10px;">9</span>  |

□ 各10点