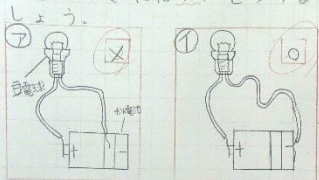


優秀ページ紹介(2月24日分)

3年生

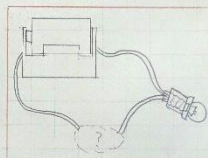
期末テストにむけて練習 4:30-5:59
木曜日

① 明かりがつくときはO、つかないときはX、をつけましょう。



② 電気が通るといふ線のつなぎ方でよい方に○をつけましょう。

③ 電気の通り道のことを何と言いますか。(回路)



④ から2つえらびましょう。

⑤ 表面積の多い順に並べよう。

⑥ 10円玉と10円玉の両面を塗った。

⑦ 10円玉の両面を塗った。

⑧ 10円玉の両面を塗った。

⑨ 10円玉の両面を塗った。

⑩ 10円玉の両面を塗った。

⑪ 10円玉の両面を塗った。

⑫ 10円玉の両面を塗った。

⑬ 10円玉の両面を塗った。

⑭ 10円玉の両面を塗った。

⑮ 10円玉の両面を塗った。

⑯ 10円玉の両面を塗った。


⑰ 10円玉の両面を塗った。

⑱ 10円玉の両面を塗った。

⑲ 10円玉の両面を塗った。

⑳ 10円玉の両面を塗った。

1645 牛の重さくらべて思ひます。



① (か)がわり ② (か)がわり ③ (か)がわり ④ (か)がわり ⑤ (か)がわり ⑥ (か)がわり ⑦ (か)がわり ⑧ (か)がわり ⑨ (か)がわり ⑩ (か)がわり ⑪ (か)がわり ⑫ (か)がわり ⑬ (か)がわり ⑭ (か)がわり ⑮ (か)がわり ⑯ (か)がわり ⑰ (か)がわり ⑱ (か)がわり ⑲ (か)がわり ⑳ (か)がわり

① 同じ大きさにするには②のどちらかのまじにします。

② ①のまじにすると③のまじにします。

③ ②のまじにすると④のまじにします。

④ ③のまじにすると⑤のまじにします。

⑤ ④のまじにすると⑥のまじにします。

⑥ ⑤のまじにすると⑦のまじにします。

⑦ ⑥のまじにすると⑧のまじにします。

⑧ ⑦のまじにすると⑨のまじにします。

⑨ ⑧のまじにすると⑩のまじにします。

⑩ ⑨のまじにすると⑪のまじにします。

⑪ ⑩のまじにすると⑫のまじにします。

⑫ ⑪のまじにすると⑬のまじにします。

⑬ ⑫のまじにすると⑭のまじにします。

⑭ ⑬のまじにすると⑮のまじにします。

⑮ ⑭のまじにすると⑯のまじにします。

⑯ ⑮のまじにすると⑰のまじにします。

⑰ ⑯のまじにすると⑱のまじにします。

⑱ ⑰のまじにすると⑲のまじにします。

⑲ ⑱のまじにすると⑳のまじにします。

2/24ページ とんすう

① 目玉の何個を数えよう?

② かわりかきをする人は何人ですか?

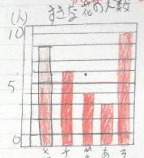
③ 4人の人がかきかたはどのくらいですか?

④ 次の表は正しいかどうかをわけせよう。

⑤ 10人が一番多いから一番少ないのはどれですか?

⑥ 一番多い花の名前から数えて10番目がどれですか?

⑦ その他一番少ないのはどれですか?



2/24ページ 水

① どの水の量はどれだけの水ですか?

② 水の量はどれだけの水ですか?

③ どの水の量はどれだけの水ですか?

④ どの水の量はどれだけの水ですか?

⑤ どの水の量はどれだけの水ですか?

⑥ どの水の量はどれだけの水ですか?

⑦ どの水の量はどれだけの水ですか?

⑧ どの水の量はどれだけの水ですか?

⑨ どの水の量はどれだけの水ですか?

⑩ どの水の量はどれだけの水ですか?

⑪ どの水の量はどれだけの水ですか?

⑫ どの水の量はどれだけの水ですか?

⑬ どの水の量はどれだけの水ですか?

⑭ どの水の量はどれだけの水ですか?

⑮ どの水の量はどれだけの水ですか?

⑯ どの水の量はどれだけの水ですか?

⑰ どの水の量はどれだけの水ですか?

⑱ どの水の量はどれだけの水ですか?

⑲ どの水の量はどれだけの水ですか?

⑳ どの水の量はどれだけの水ですか?

2/24ページ 水

① どの水の量はどれだけの水ですか?

② どの水の量はどれだけの水ですか?

③ どの水の量はどれだけの水ですか?

④ どの水の量はどれだけの水ですか?

⑤ どの水の量はどれだけの水ですか?

⑥ どの水の量はどれだけの水ですか?

⑦ どの水の量はどれだけの水ですか?

⑧ どの水の量はどれだけの水ですか?

⑨ どの水の量はどれだけの水ですか?

⑩ どの水の量はどれだけの水ですか?

⑪ どの水の量はどれだけの水ですか?

⑫ どの水の量はどれだけの水ですか?

⑬ どの水の量はどれだけの水ですか?

⑭ どの水の量はどれだけの水ですか?

⑮ どの水の量はどれだけの水ですか?

⑯ どの水の量はどれだけの水ですか?

⑰ どの水の量はどれだけの水ですか?

⑱ どの水の量はどれだけの水ですか?

⑲ どの水の量はどれだけの水ですか?

⑳ どの水の量はどれだけの水ですか?

2/24ページ 水

① どの水の量はどれだけの水ですか?

② どの水の量はどれだけの水ですか?

③ どの水の量はどれだけの水ですか?

④ どの水の量はどれだけの水ですか?

⑤ どの水の量はどれだけの水ですか?

⑥ どの水の量はどれだけの水ですか?

⑦ どの水の量はどれだけの水ですか?

⑧ どの水の量はどれだけの水ですか?

⑨ どの水の量はどれだけの水ですか?

⑩ どの水の量はどれだけの水ですか?

⑪ どの水の量はどれだけの水ですか?

⑫ どの水の量はどれだけの水ですか?

⑬ どの水の量はどれだけの水ですか?

⑭ どの水の量はどれだけの水ですか?

⑮ どの水の量はどれだけの水ですか?

⑯ どの水の量はどれだけの水ですか?

⑰ どの水の量はどれだけの水ですか?

⑱ どの水の量はどれだけの水ですか?

⑲ どの水の量はどれだけの水ですか?

⑳ どの水の量はどれだけの水ですか?

