


愛知川小 5分間ステップアップ学習

名前 ()


【学習名】	10より大きいかず	<div style="font-size: 2em; font-weight: bold;">100</div> <small>てんじょうごうかく</small> 90点以上で合格
【学習のめあて】	20よりおおきいかずを よんだりかいたりできる。	
【ふりかえり】	◎よくわかる ○わかる △わからない	

1 いくつ ありますか。かずを かぞえましょう。





こ

2 なんだい ありますか。かずを かぞえましょう。



だい

3 いくつ ですか。かずを かきましょう。



5 あいている すうじを かきましょう。

4 なんえん ですか。

① えん

② えん

③ えん

□…各10点


にち	げつ	か	すい	もく	きん	ど
				1	2	3
4	5	6	7	8	9	10
11	12	13	14	15	16	
18	19		21	22	23	24
25	26	27	28	29	30	

愛知川小 5分間ステップアップ学習

名前 ()


【学習名】	10より大きいかず	<div style="font-size: 2em; font-weight: bold;">100</div> <small>てんじょうごうかく</small> 90点以上で合格
【学習のめあて】	20よりおおきいかずを よんだりかいたりできる。	
【ふりかえり】	◎よくわかる ○わかる △わからない	

1 いくつ ありますか。かずを かぞえましょう。




27こ

2 なんだい ありますか。かずを かぞえましょう。




24だい

3 いくつ ですか。かずを かきましょう。



28



33

5 あいている すうじを かきましょう。

4 なんえん ですか。

① 13 えん

② 16 えん

③ 31 えん

□…各10点

にち	げつ	か	すい	もく	きん	ど
				1	2	3
4	5	6	7	8	9	10
11	12	13	14	15	16	17
18	19	20	21	22	23	24
25	26	27	28	29	30	31