

## 愛知川小 5分間ステップアップ学習

名前 ( )

【学習名】

3つの かずの けいさん

【学習のめあて】

ふえていく 3つの かずの けいさんが できる。

【ふりかえり】

◎よくわかる

○わかる

△わからない

/ 100



90点以上で合格

① きいろい はなが 4ほん あります。

あかい はなが 2ほん あります。

しろい はなが 3ほん あります。

はなは ぜんぶで なんほん ありますか。



しき

こたえ

② りんごが 1こ あります。

3こ かってきて、4こ もらいました。

りんごは なんこに なりましたか。



しき

こたえ

③  $3+1+5$

④  $7+1+1$

⑤  $7+3+4$

⑥  $3+2+5$

⑦  $6+1+2$

⑧  $9+1+4$


( )...各10点


## 愛知川小 5分間ステップアップ学習


名前 ( )

【学習名】 <b>3つの かずの けいさん</b>	/ 100 <small>でいせう とうかく</small> 90点以上で合格
【学習のめあて】 ふえていく 3つの かずの けいさんが できる。	
【ふりかえり】      ◎よくわかる      ○わかる      △わからない	

① きいろい はなが 4ほん あります。      

あかい はなが 2ほん あります。      


しろい はなが 3ほん あります。      


はなは ぜんぶで なんほん ありますか。


しき

こたえ

② りんごが 1こ あります。      

3こ かってきて、4こ もらいました。      

りんごは なんこに なりましたか。      

しき

こたえ

③  $3+1+5 = 9$       ④  $7+1+1 = 9$

⑤  $7+3+4 = 14$       ⑥  $3+2+5 = 10$

⑦  $6+1+2 = 9$       ⑧  $9+1+4 = 14$

( ) ……各10点