

## 愛知川小 5分間ステップアップ学習

名前 ( )

【学習名】

3つの かずの けいさん

【学習のめあて】

いろいろな わけかたを かんがえ、ずや しきで あらわすことができる。

【ふりかえり】

◎よくわかる


○わかる

△わからない

/ 100

90点以上で合格

あめが 12こ あります。4にんで おなじ かずずつ わけると、  
ひとりに なんこずつ わけられますか。



①えに かいて かんがえましょう。






②しきに かいて たしかめましょう。

$$\square + \square + \square + \square = \square$$

9この りんごを おなじ かずずつ わけます。



③ずに かいて かんがえましょう。

④しきに かいて たしかめましょう。

しき


( ) ……各25点

# 愛知川小 5分間ステップアップ学習

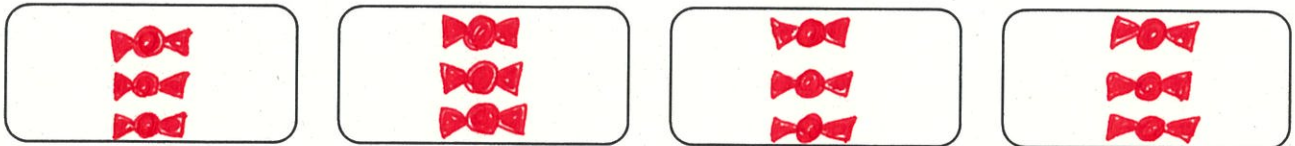
名前 ( )

<p>【学習名】</p> <h2 style="text-align: center;">3つの かずの けいさん</h2>	<div style="font-size: 2em; font-weight: bold;">/ 100</div> <p>90点以上で合格</p>
<p>【学習のめあて】</p> <p>いろいろな わけかたを かんがえ、ずや しきで あらわすことができる。</p>	
<p>【ふりかえり】      ◎よくわかる      ○わかる      △わからない</p>	

あめが 12こ あります。4にんで おなじ かずずつ わけると、  
ひとりに なんこずつ わけられますか。




①えに かいて かんがえましょう。




②しきに かいて たしかめましょう。

$$\boxed{3} + \boxed{3} + \boxed{3} + \boxed{3} = \boxed{12}$$

9この りんごを おなじ かずずつ わけます。



③ずにかいて かんがえましょう。



④しきに かいて たしかめましょう。

しき  $\boxed{3 + 3 + 3 = 9}$

( ) ……各25点