

愛知川小 5分間ステップアップ学習

名前 ()

【学習名】円と球

【学習のめあて】

コンパスを使って円をかきこなができる。


【ふりかえり】 ◎よくわかる ○わかる △わからない

100


90点以上で合格

1 次の円をコンパスを使って書きましょう。(各25点)

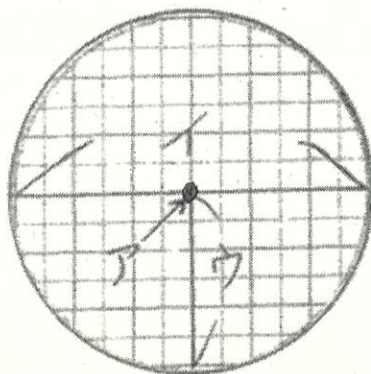
半径1cmの円



直径4cmの円



2 ①下の円のア, イ, ウを円の何といいますか。(各10点)



ア()

イ()

ウ()

②イの長さはウの長さの何倍ですか。() 倍)

3 コンパスで次の直線に3cmずつに区切りましょう。



愛知川小 5分間ステップアップ学習

名前 ()

【学習名】円と球

【学習のめあて】

コンパスを使って円をかきことができる。

【ふりかえり】

◎よくわかる

○わかる


△わからない

100

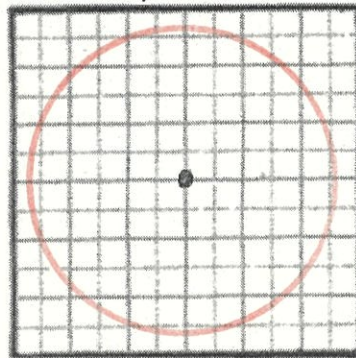
90点以上で合格

1 次の円をコンパスを使って書きましょう。(各25点)

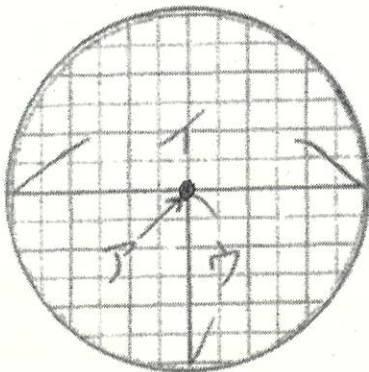
半径1cmの円



直径4cmの円



2 ①下の円のア, イ, ウを円の何といいますか。(各10点)



ア(中心)
イ(直径)
ウ(半径)

②イの長さはウの長さの何倍ですか。(2 倍)

3 コンパスで次の直線に3cmずつに区切りましょう。

