

愛知川小 5分間ステップアップ学習

名前 ()

【学習名】 大きな数

【学習のめあて】

1万より大きい数を表したり、その大きさをくらべたりできる。

【ふりかえり】

よくわかる

わかる

わからない

100
てんいじょう ごとかく
90点以上で合格

① 23714 は10000を _____ こ, 1000を _____ こ,

100を _____ こ, 10を _____ こ, 1を _____ こ合わせた数です。(全部あていて10点)

② 10000を3こ, 100を6こ 合わせた数は何でしょう。(各10点)

()

③ 1万を 1000こ集めた数は何でしょう。()

④ 1000 を次の数だけ集めた数はいくつですか。

(1) 20こ

(2) 103こ

()

()

⑥ 次の数は, 1000をいくつ集めた数ですか。

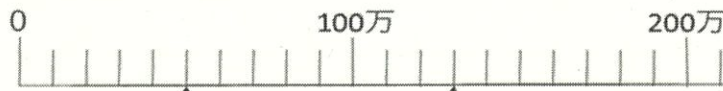
(1) 15000

(2) 180000

() こ

() こ

⑦ 次の目もりが表す数を書きましょう。(各5点)



ア _____ イ _____ ウ _____ エ _____

⑧ □ に当てはまる等号か不等号を書きましょう。(=, <, >) (各5点)

(1) 74000 □ 80000

(2) 400万 □ 339万+63万

愛知川小 5分間ステップアップ学習

名前 ()

【学習名】 大きな数

【学習のめあて】

1万より大きい数と表したり、その大きさをくらべたりできる。

【ふりかえり】

◎よくわかる

○わかる

△わからない

100

てんいじょう ちゅうかく
90点以上で合格

① 23714 は10000を 2 こ、1000を 3 こ、
100を 7 こ、10を 1 こ、1を 4 こ合わせた数です。(全部あていて10点)

② 10000を3こ、100を6こ合わせた数は何でしょう。(10点)

(30600)

③ 1万を1000こ集めた数は何でしょう。(1000万)

④ 1000を次の数だけ集めた数はいくつですか。

(1) 20こ

(2) 103こ

(20000)

(103000)

⑥ 次の数は、1000をいくつ集めた数ですか。

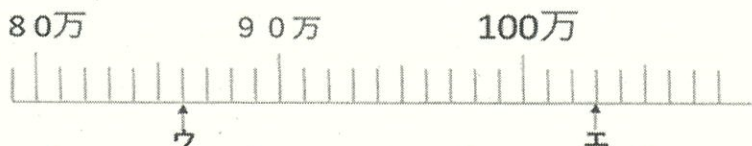
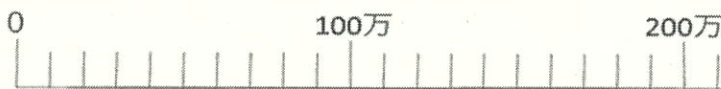
(1) 15000

(2) 180000

(15こ)

(180こ)

⑦ 次の目もりが表す数を書きましょう。(各5点)



ア 50万 イ 130万 ウ 86万 エ 103万

⑧ □ に当てはまる等号か不等号を書きましょう。(=, <, >) (各5点)

(1) 74000 < 80000

(2) 400万 < 339万 + 63万