
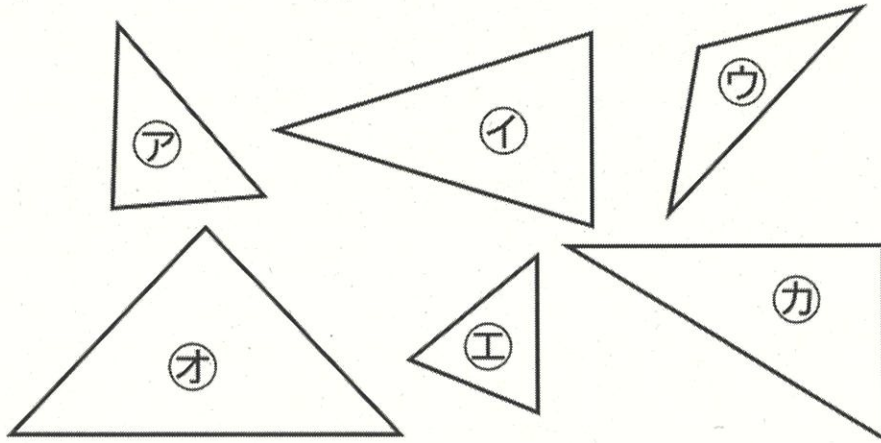


愛知川小 5分間ステップアップ学習

名前()

【学習名】 三角形と角	<div style="text-align: right;">  100 <small>てんいじょう ごうかく</small> 90点以上で合格 </div>
【学習のめあて】 二等辺三角形と正三角形のとくちょうがりかいできる。	
【ふりかえり】 ◎よくわかる ○わかる △わからない	

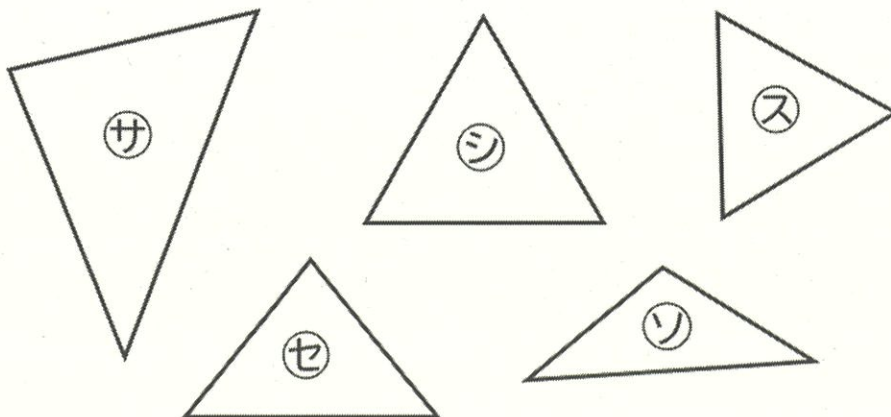
次の中から二等辺三角形を3つ見つけましょう。
定ぎやコンパスを使いましょう。



答え

--	--	--

次の中から正三角形を2つ見つけましょう。
定ぎやコンパスを使いましょう。



答え

--	--

配点 かく20点



愛知川小 5分間ステップアップ学習

名前()

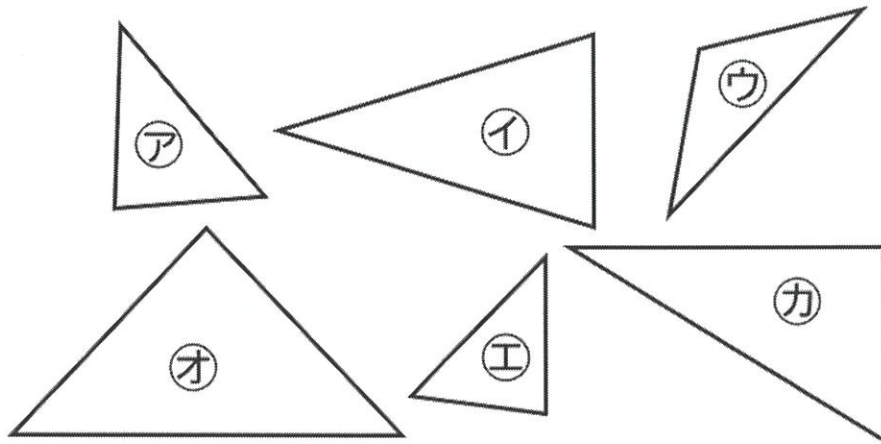
【学習名】 三角形と角

【学習のめあて】 二等辺三角形と正三角形のとくちようがりがいできる。

【ふりかえり】 ◎よくわかる ○わかる △わからない

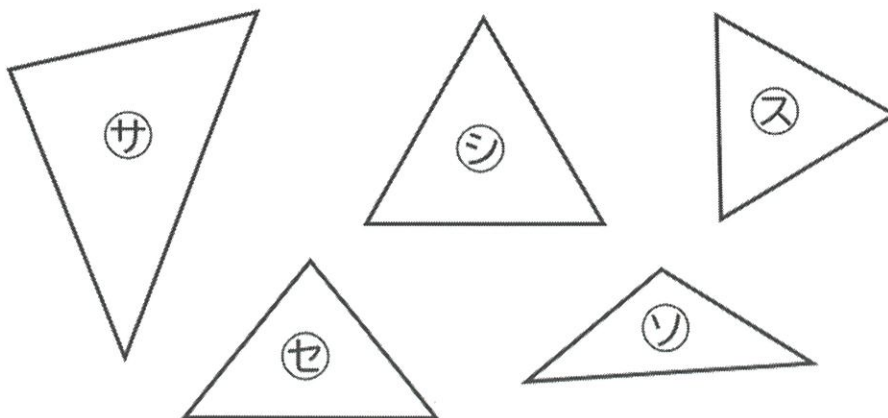
100
てんいじょう 90点以上で合格

次の中から二等辺三角形を3つ見つけましょう。
定ぎやコンパスを使いましょう。



答え イ ウ オ

次の中から正三角形を2つ見つけましょう。
定ぎやコンパスを使いましょう。



答え シ セ

配点 かく20点