



愛知川小 5分間ステップアップ学習


名前()

【学習名】 三角形と角	
【学習のめあて】 二等辺三角形と正三角形をかくことができる。	
【ふりかえり】 ◎よくわかる ○わかる △わからない	

① 辺の長さが5cm、6cm、6cmの二等辺三角形をかきましょう。




② 1つの辺の長さが5cmの正三角形をかきましょう。



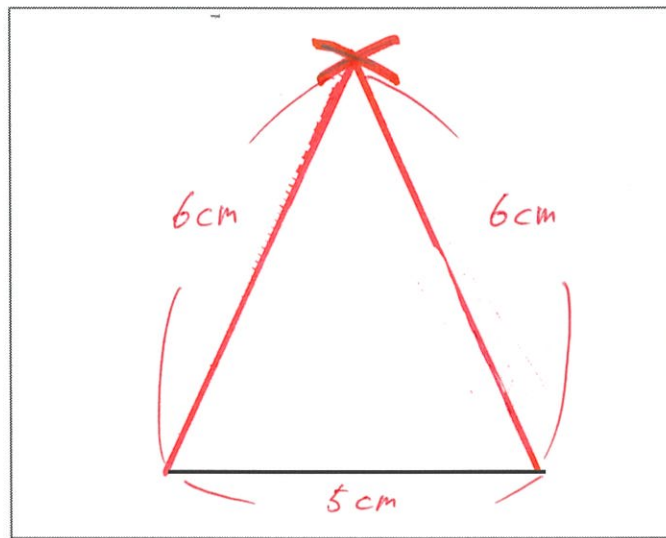
配点 かく50点

愛知川小 5分間ステップアップ学習

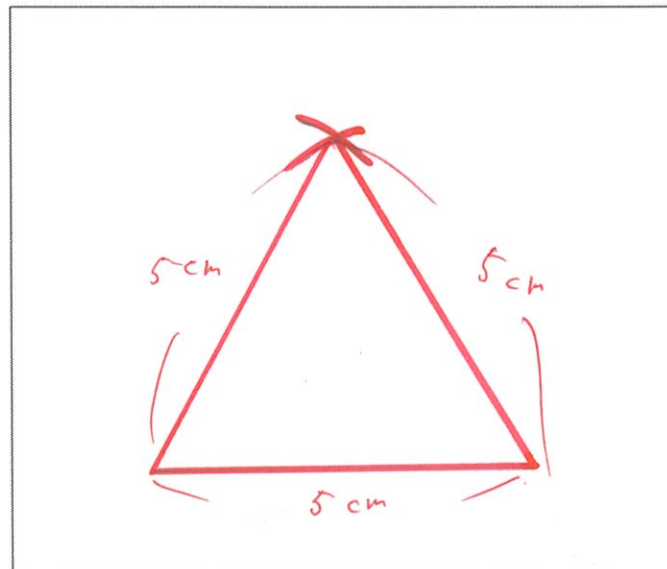
名前()

【学習名】	三角形と角	
【学習のめあて】	二等辺三角形と正三角形をかくことができる。	
【ふりかえり】	◎よくわかる ○わかる △わからない	

① 辺の長さが5cm、6cm、6cmの二等辺三角形をかきましょう。



② 1つの辺の長さが5cmの正三角形をかきましょう。



配点 かく50点