



愛知川小 5分間ステップアップ学習

名前 ()

<p>【学習名】 三角形と角</p>	 <p>100</p> <p>てんいじょう とうかく 90点以上で合格</p>
<p>【学習のめあて】 角の大きさをくらべることができる。</p>	
<p>【ふりかえり】 ◎よくわかる ○わかる △わからない</p>	

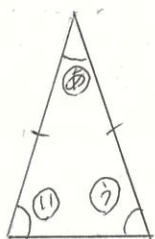
① 角の大きいじゅんに、()に記号を書きましょう。



大 () → () → () → () → () 小

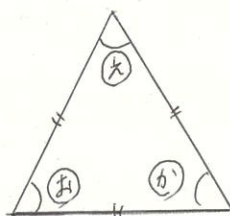
② 次の図で、大きさの等しい角はどれですか。
()に記号を書きましょう。

① 二等辺三角形



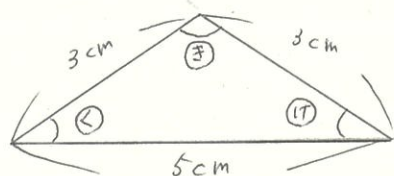
()

② 正三角形



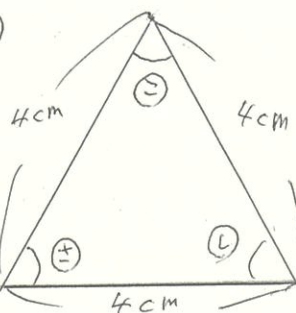
()

③



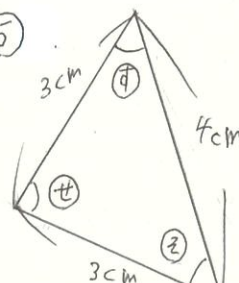
()

④



()

⑤




()

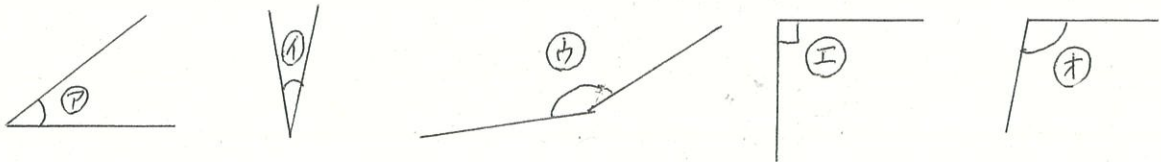
() ... 各10点

愛知川小 5分間ステップアップ学習

名前 ()

<p>【学習名】 三角形と角</p>	 <p>100</p> <p>てんじょうごうかく 90点以上で合格</p>
<p>【学習のめあて】 角の大きさをくらべることができる。</p>	
<p>【ふりかえり】 ◎よくわかる ○わかる △わからない</p>	

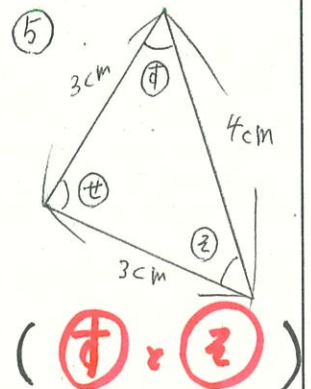
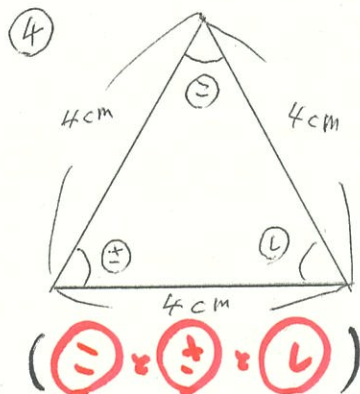
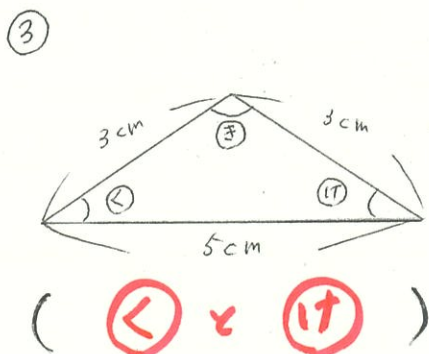
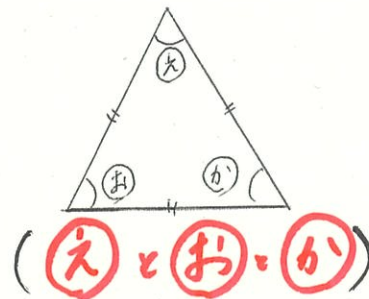
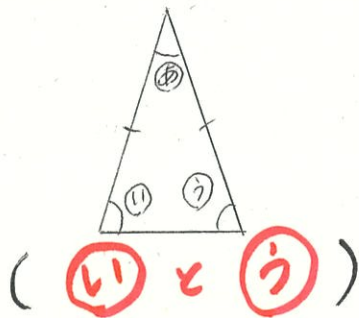
① 角の大きい順に、() に記号を書きましょう。



大 (**ウ**) → (**オ**) → (**エ**) → (**ア**) → (**イ**) 小

② 次の四で、大きさの等しい角はどれですか。
() に記号を書きましょう。

- ① 二等辺三角形 ② 正三角形



() ... 各10点