


愛知川小 5分間ステップアップ学習

名前 ()

【学習名】	重さの単位	 <small>てんいじょう ごうかく</small> 90点以上で合格
【学習のめあて】	はかりの目もりを正しく読むことができる。	
【ふりかえり】	◎よくわかる ○わかる △わからない	

 からことばをえらんでかきましょう。

はかりの使い方

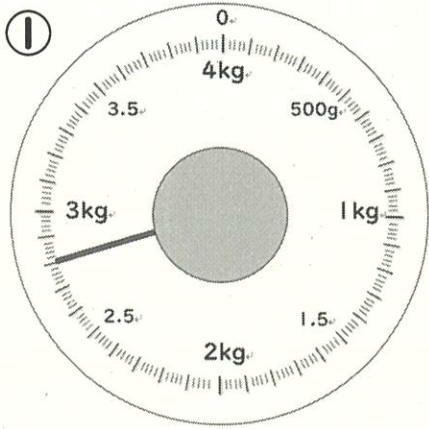
- ① などところにおく。
- ② はりが を正しくさしているか、たしかめる。
- ③ はかる物を にのせる。目もりは から読む。

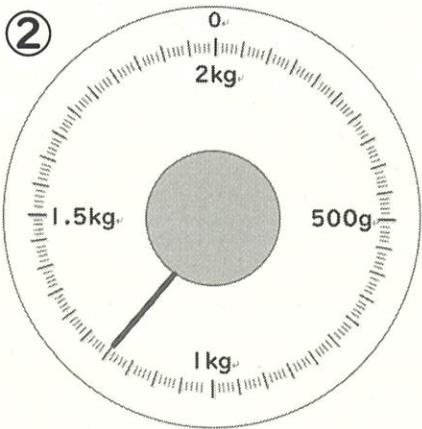
0 平ら 正面 しずか

にあてはまる数字をかきましょう。

1 kg = g

はりがさしている目もりを読みましょう。






- ㉞ 1 kg 700g
- ㉟ 2500g
- ㊱ 3400g

①のはかりに、右の㉞、㉟、㊱の重さを表す ↑ をかきましょう。

各 10 点

愛知川小 5分間ステップアップ学習

名前 ()

【学習名】	重さの単位	 100 <small>てんいじょう ごうかく</small> 90点以上で合格
【学習のめあて】	はかりの目もりを正しく読むことができる。	
【ふりかえり】	◎よくわかる ○わかる △わからない	

からことばをえらんでかきましょう。

はかりの使い方

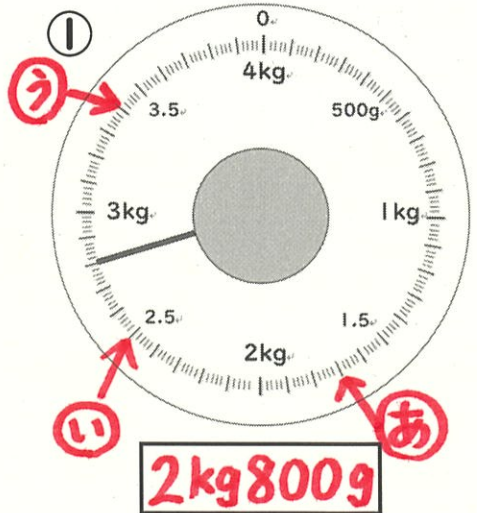
- ① **平ら** なところにおく。
- ② はりが **0** を正しくさしているか、たしかめる。
- ③ はかる物を **しずか** にのせる。目もりは **正面** から読む。

0 平ら 正面 しずか

□にあてはまる数字をかきましょう。

1kg = 1000 g

はりがさしている目もりを読みましょう。



- ㊦ 1kg700g
 - ㊩ 2500g
 - ㊫ 3400g

①のはかりに、右の㊦、㊩、㊫の重さを表す ↑をかきましょう。

各 10 点