

# 愛知川小 5分間ステップアップ学習

名前 ( )

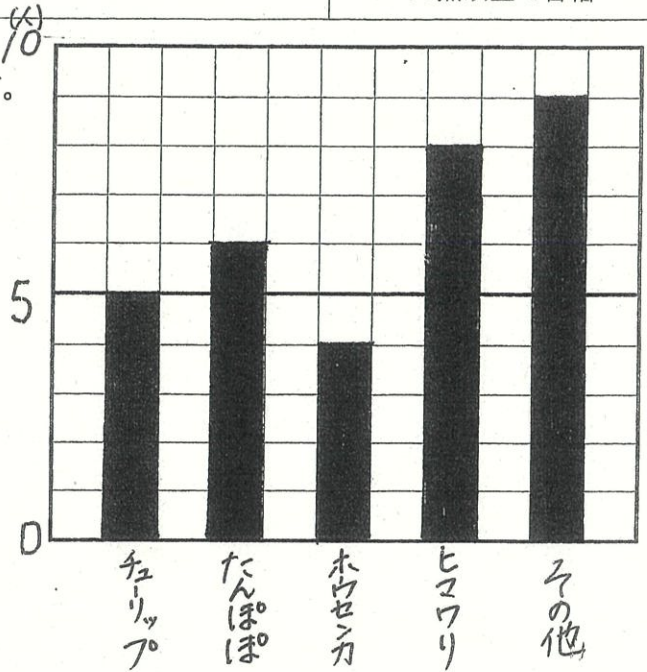
<p>【学習名】 <span style="font-size: 1.5em;">ぼうグラフと表</span></p>	<div style="font-size: 2em; font-weight: bold;">100</div> <p style="font-size: 0.8em;">90点以上で合格</p>
<p>【学習のめあて】 正しく目もりを読み、ぼうグラフをかくことができる。</p>	
<p>【ふりかえり】      ○よくわかる      ○わかる      △わからない</p>	

右のぼうグラフは、すきな花を調べたものです。

① 1目もりは何人を表していますか。  
( )

② たんぽぽが好きな人は何人ですか。  
( )

③ 人数が一番多い花のしゅるいは何で、何人ですか。  
( )で( )人

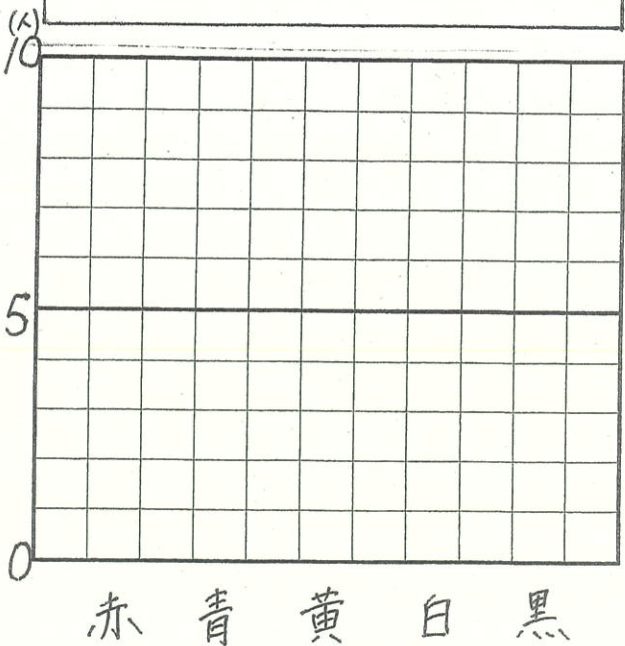


3年生の好きな色の人数

種類	赤	青	黄	白	黒	合計
人数 (人)	3	7	5	4	8	27

① グラフの表題を書きましょう。

② 表をグラフに表しましょう。



# 愛知川小 5分間ステップアップ学習

名前 ( )

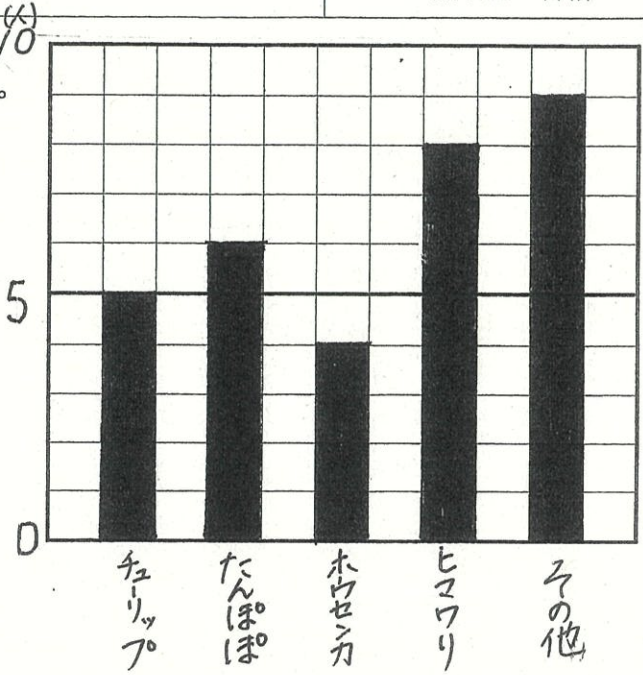
<p>【学習名】 <b>ぼうグラフと表</b></p>	<p>100</p> <p><small>てんじょうごうかく</small> 90点以上で合格</p>
<p>【学習のめあて】 正しく目もりを読み、ぼうグラフをかきこなができる。</p>	
<p>【ふりかえり】      ◎よくわかる      ○わかる      △わからない</p>	

右のぼうグラフは、すきな花を調べたものです。

① 1目もりは何人を表していますか。  
( **1人** )

② たんぽぽがすきな人は何人ですか。  
( **6人** )

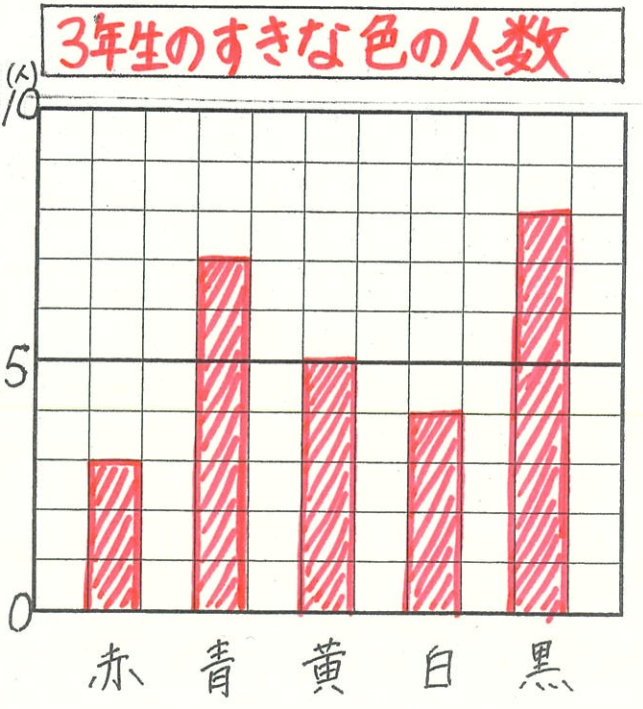
③ 人数が一番多い花のしゅるいは何で、何人ですか。  
( **ヒマワリ** ) で ( **8** ) 人



3年生のすきな色的人数

種類	赤	青	黄	白	黒	合計
人数 (人)	3	7	5	4	8	27

- ① グラフの表題を書きましょう。
- ② 表をグラフに表しましょう。



※ 1問10点