

# 愛知川小 5分間ステップアップ学習

名前 ( )

【学習名】

いろいろな かたち

【学習のめあて】

うつしとったかたちのとくちょうをいかりすることができる。

100

【ふりかえり】

◎よくわかる

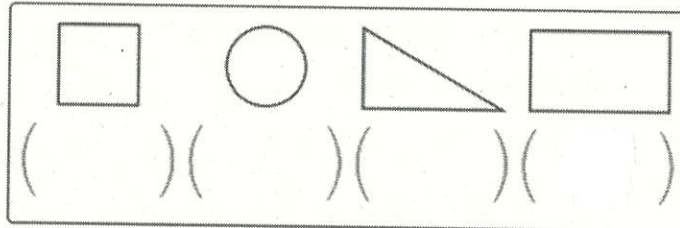
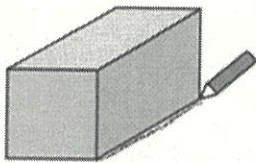
○わかる

△わからない

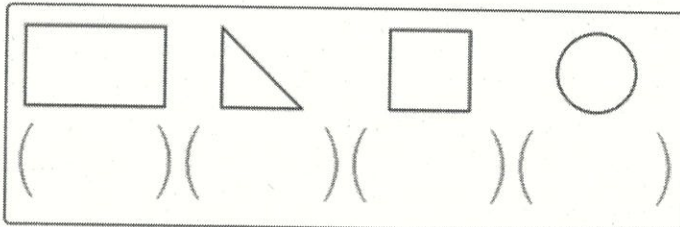

90点以上で合格

1 うつしとってできる かたちに ○を つけましょう。

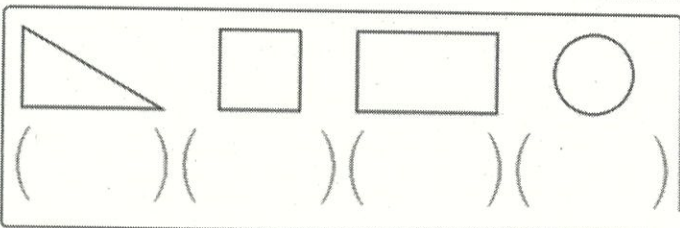
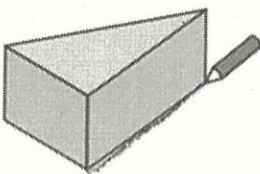
①



②


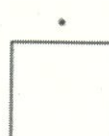
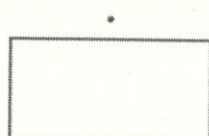
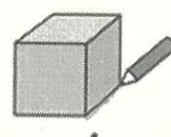
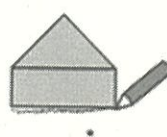
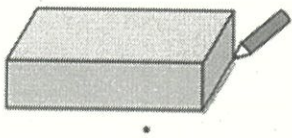


③



各20点×3

2 うつしとってできる かたちに ———— でおすびましょう。



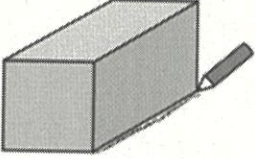
各10点×4


# 愛知川小 5分間ステップアップ学習

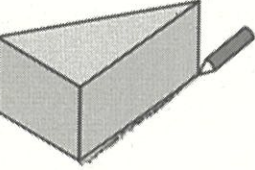
名前 ( )

<p>【学習名】 <b>いろいろな かたち</b></p>	<div style="font-size: 2em; font-weight: bold;">100</div> <p style="font-size: 0.8em;">てんいじょう ごうかく 90点以上で合格</p>
<p>【学習のめあて】 <b>うつしとったかたちのとくちょうをいかいすることができる。</b></p>	
<p>【ふりかえり】      ◎よくわかる      ○わかる      △わからない</p>	

1 うつしとってできる かたちに ○を つけましょう。





①  ( ) ( ) ( ) ( ○ )

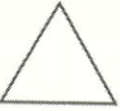



②  ( ) ( ) ( ) ( ○ )

③  ( ○ ) ( ) ( ) ( )

各20点×3

2 うつしとってできる かたちに ———— でおすびましょう。

*(Note: Red lines connect the 3D objects to their corresponding 2D shapes: Rectangular prism to horizontal rectangle, Cylinder to circle, Triangular prism to triangle, and Cube to square.)*

各10点×4