

愛知川小 5分間ステップアップ学習

名前 ()

【学習名】

折れ線グラフと表

【学習のめあて】

折れ線グラフを読みとることができる。

【ふりかえり】

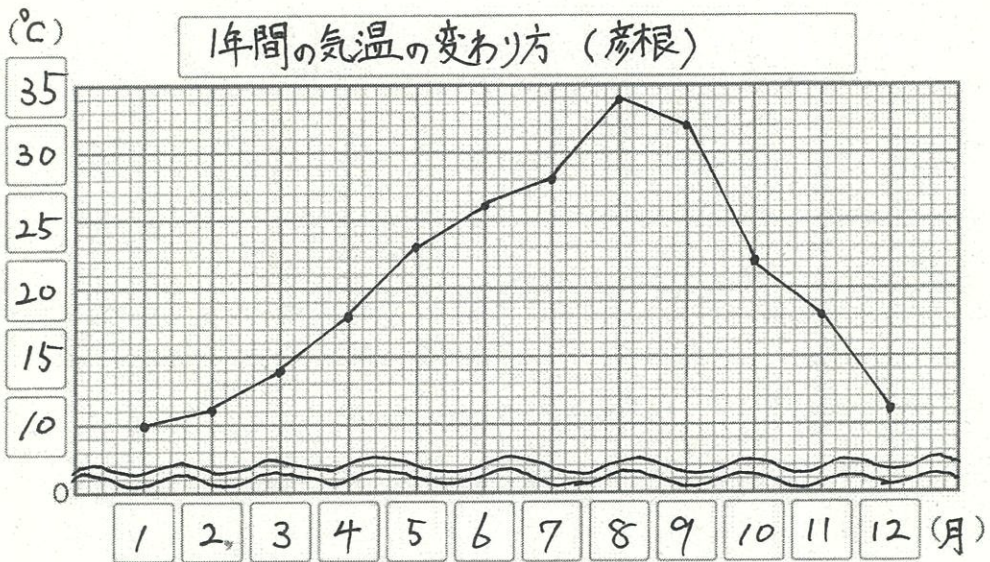
◎よくわかる

○わかる

△わからない

100

てんいじょう とうかく
90点以上で合格




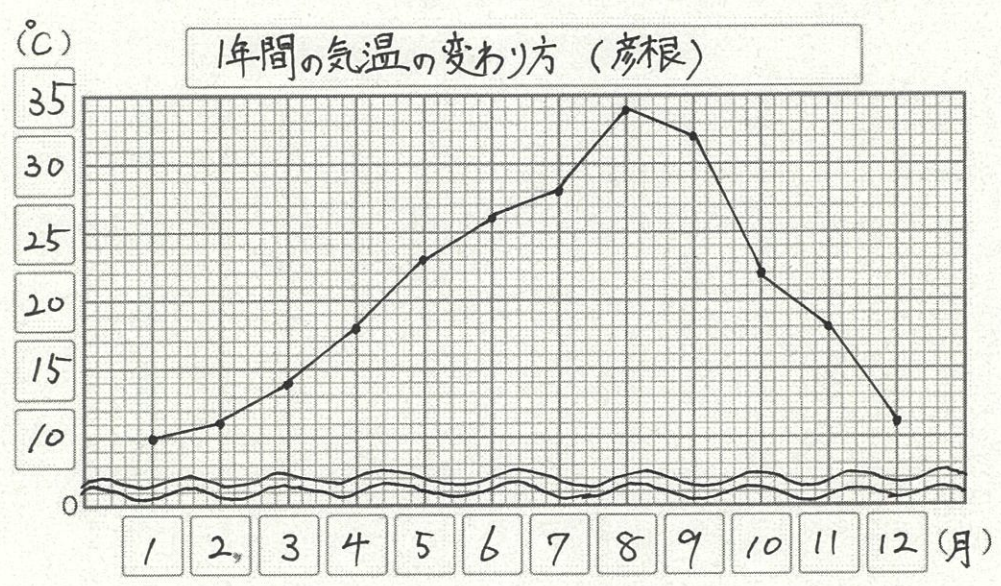
- ①横のじくは何を表していますか。()
- ②たてのじくは何を表していますか。()
- ③たてじくの1目もりは何°Cを表していますか。()
- ④何について書かれたグラフですか。()
- ⑤気温が一番高い月は何月で何°Cですか？()月()°C
- ⑥気温の上がり方が一番大きい月は何月から何月ですか。
()月から()月
- ⑦1月と12月ではどちらの気温が高いですか。()
- ⑧1月と8月の気温の差は何°Cですか。()

※各10点

愛知川小 5分間ステップアップ学習

名前 ()

<p>【学習名】</p> <h2 style="text-align: center;">折れ線グラフと表</h2>	 <p>100</p> <p>てんいじょう ぎょうかく 90点以上で合格</p>
<p>【学習のめあて】</p> <p style="text-align: center;">折れ線グラフを読みとることができる。</p>	
<p>【ふりかえり】</p> <p style="text-align: center;">◎よくわかる ○わかる △わからない</p>	



- ①横のじくは何を表していますか。(月)
- ②たてのじくは何を表していますか。(気温)
- ③たてじくの1目もりは何°Cを表していますか。(1°C)
- ④何について書かれたグラフですか。(1年間の気温の変わり方)
- ⑤気温が一番高い月は何月で何°Cですか？ (8 月) (34 °C)
- ⑥気温の上がり方が一番大きい月は何月から何月ですか。
(7 月) から (8 月)
- ⑦1月と12月ではどちらの気温が高いですか。(12月)
- ⑧1月と8月の気温の差は何°Cですか。(24°C)

※各10点