

愛知川小 5 分間ステップアップ学習

名前 ()

【学習名】

垂直, 平行と四角形

【学習のめあて】

とくちょう

垂直の特徴を知り、垂直をかくことができる。

【ふりかえり】

◎よくわかる

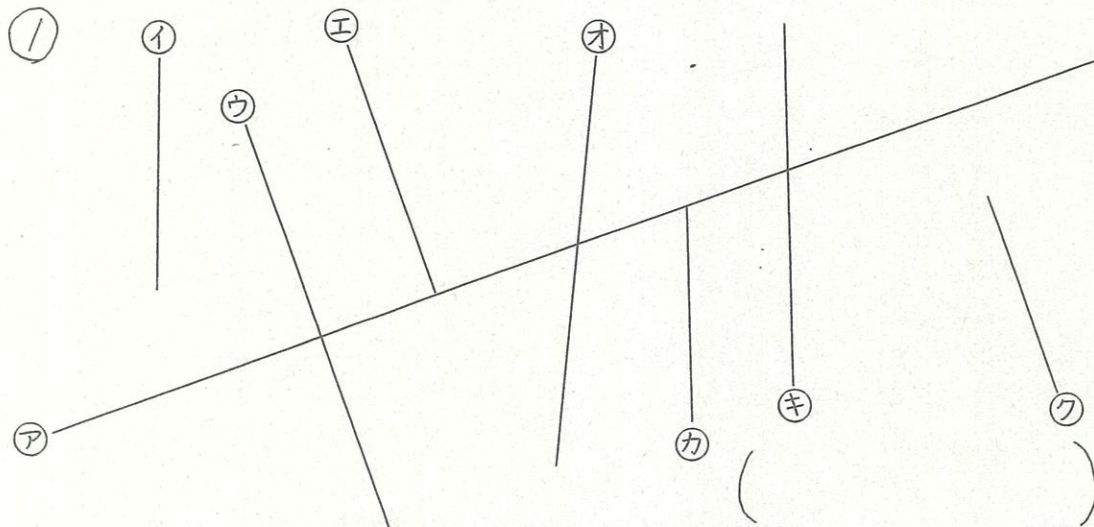
○わかる

△わからない

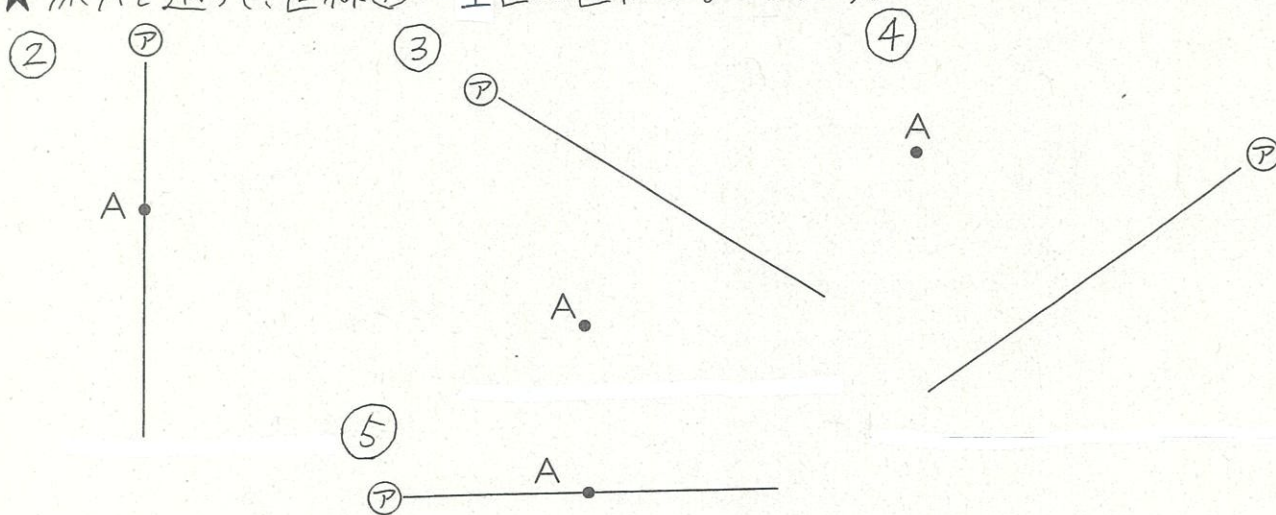
100

てんいじょう ごうかく
90点以上で合格

★下の図で①の直線に垂直な直線の記号を()に書きましょう。



★点Aを通って、直線①に垂直な直線をひきましょう。



各20点

愛知川小 5 分間ステップアップ学習

名前 ()

【学習名】

垂直, 平行と 四角形

【学習のめあて】

とくちょう

垂直の特徴を知り、垂直をかくことができる。

【ふりかえり】

◎よくわかる

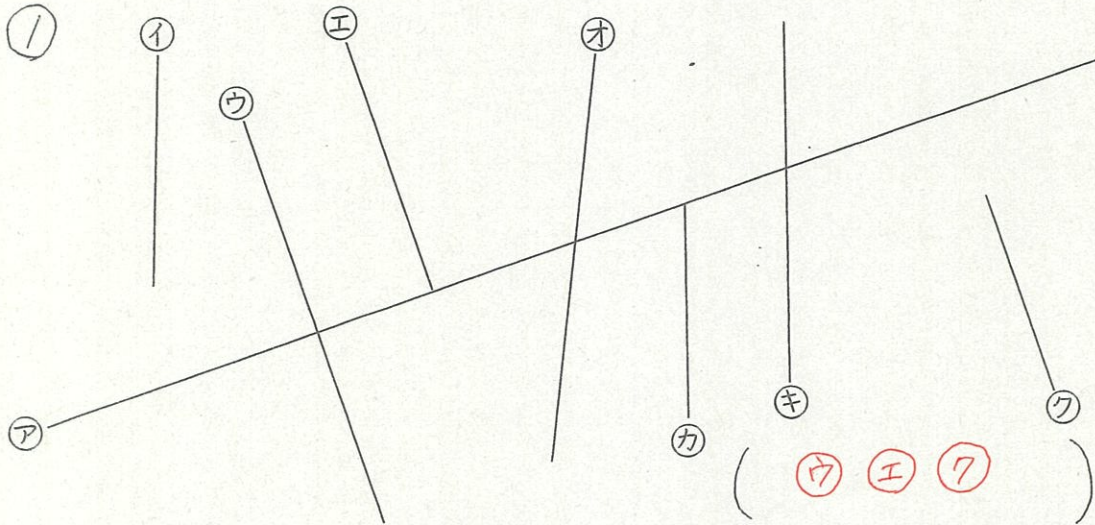
○わかる

△わからない

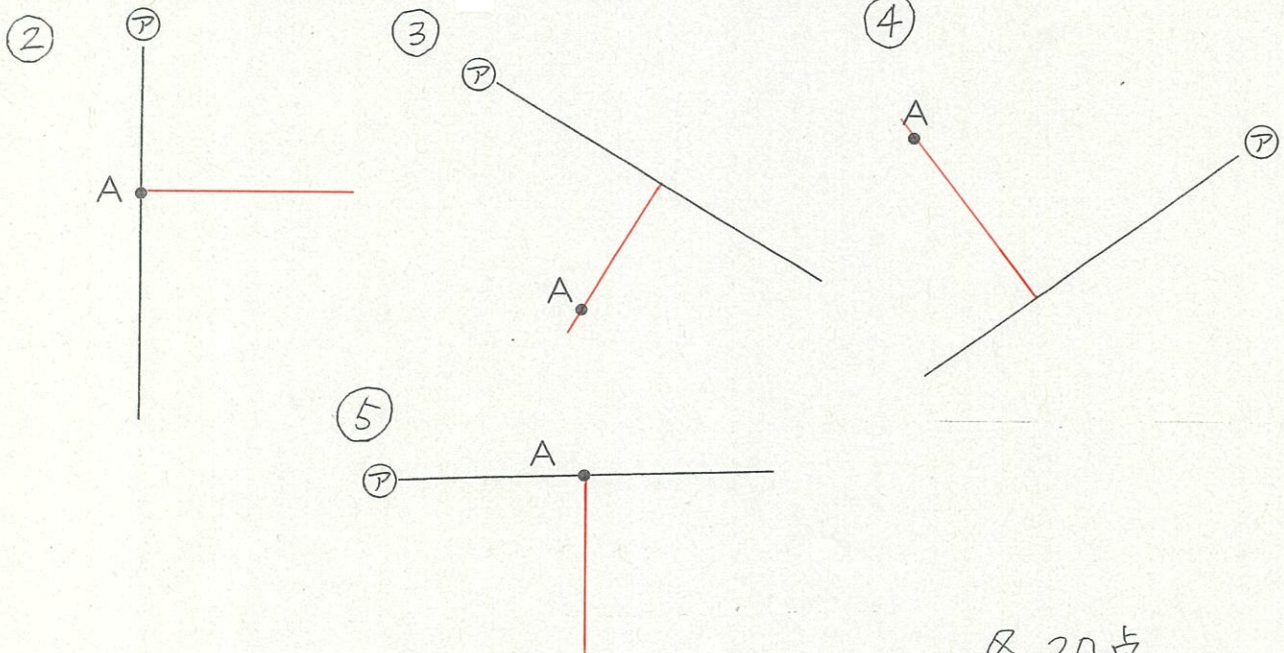
てんいじょう こうかく
90点以上で合格

100

★下の図でアの直線に垂直な直線の記号を()に書きましょう。



★点Aを通って、直線アに垂直な直線をひきましょう。



各 20 点