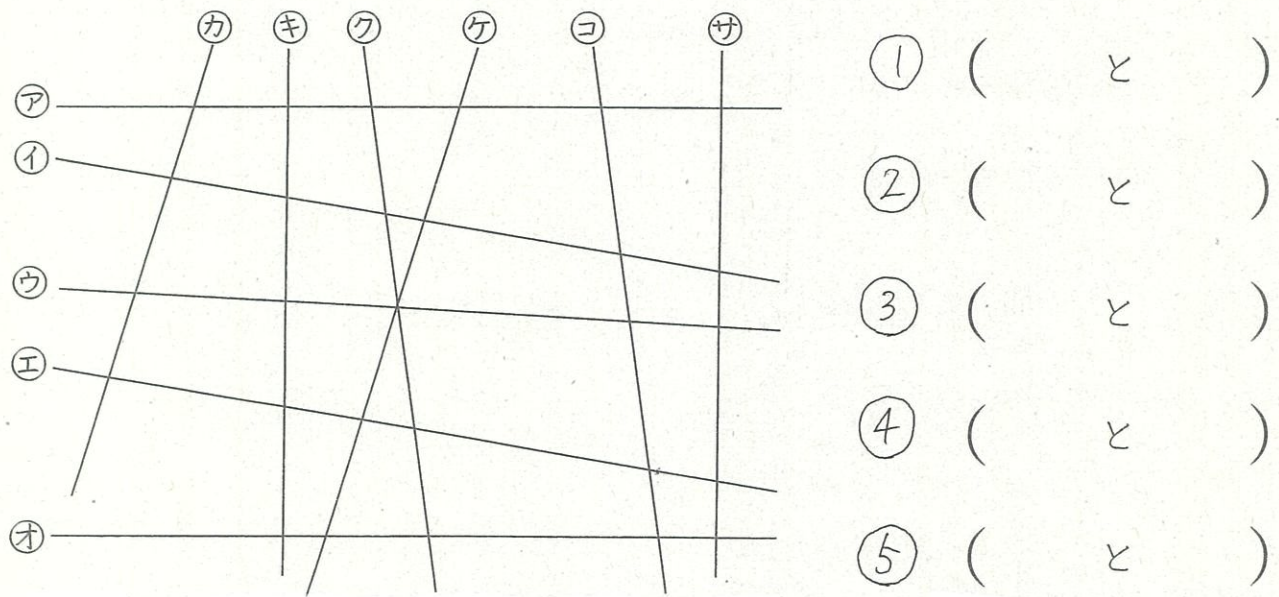


# 愛知川小 5分間ステップアップ学習

名前 ( )

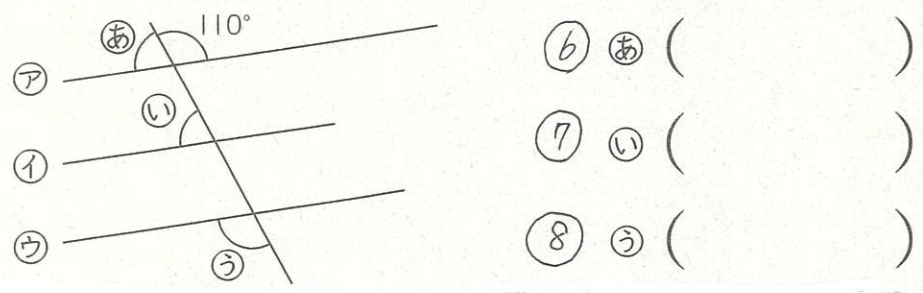
<p>【学習名】 垂直、平行と四角形</p>	<div style="font-size: 2em; font-weight: bold;">100</div> <p>てんじょう とうかく 90点以上で合格</p>
<p>【学習のめあて】 とくちょう 平行の特徴を知り、平行をかくことができる。</p>	
<p>【ふりかえり】      ◎よくわかる      ○わかる      △わからない</p>	

★下の図で、平行な直線はどれとどれですか。



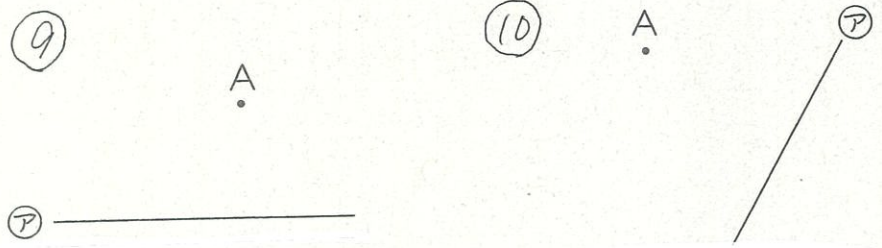
- ① (   と   )
- ② (   と   )
- ③ (   と   )
- ④ (   と   )
- ⑤ (   と   )

★ア①ウの直線は全て平行です。あいうの角度は何度ですか。



- ⑥ あ (   )
- ⑦ い (   )
- ⑧ う (   )

★点Aを通過して、直線アに平行な直線を引きましょう。

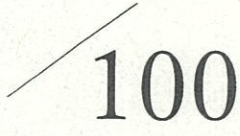


各10点

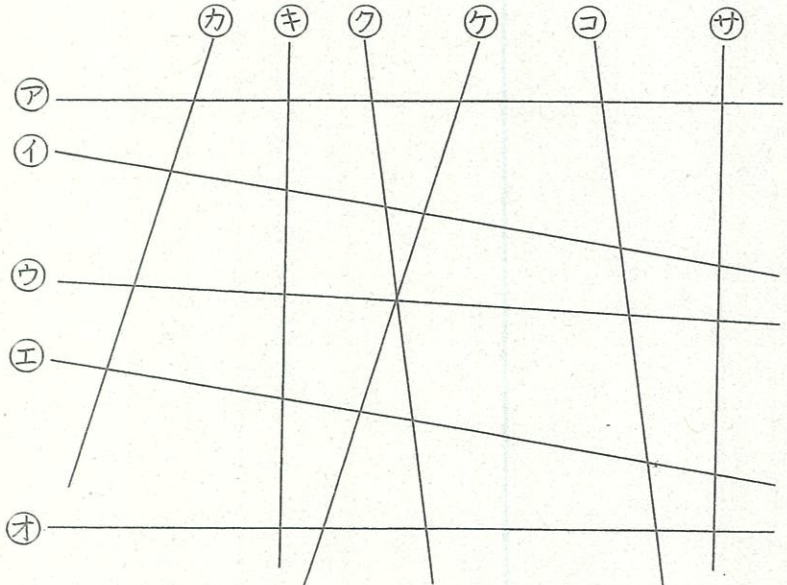


# 愛知川小 5分間ステップアップ学習

名前 ( )

<p>【学習名】 垂直、平行と四角形</p>	 <p>100</p> <p>90点以上で合格</p>
<p>【学習のめあて】 とくちゅう 平行の特徴を知り、平行をかくことができる。</p>	
<p>【ふりかえり】 ◎よくわかる ○わかる △わからない</p>	

★下の図で、平行な直線はどれとどれですか。



① (イ と エ)

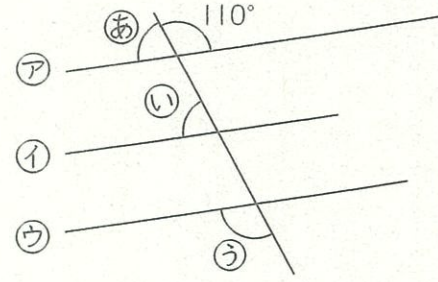
② (ア と オ)

③ (カ と ケ)

④ (キ と サ)

⑤ (ク と コ)

★ア、イ、ウの直線は全て平行です。あ、い、うの角度は何度ですか。




⑥ あ (70°(度))

⑦ い (70°(度))

⑧ う (110°(度))

★点Aを通過して、直線アに平行な直線を引きましょう。



各10点