

愛知川小 5分間ステップアップ学習

名前 ()

【学習名】

垂直, 平行と四角形

【学習のめあて】

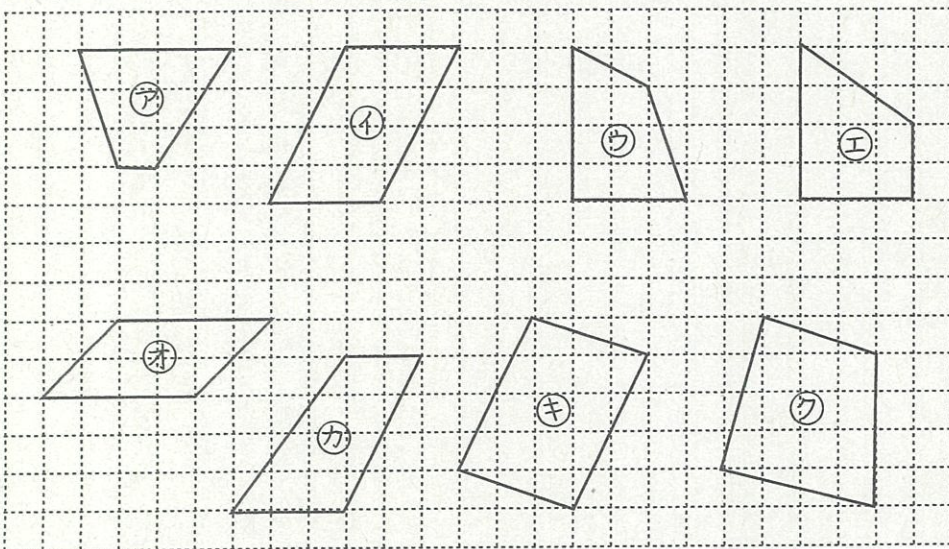
平行の特徴を知り、平行四辺形をかける。

【ふりかえり】

◎よくわかる ○わかる △わからない

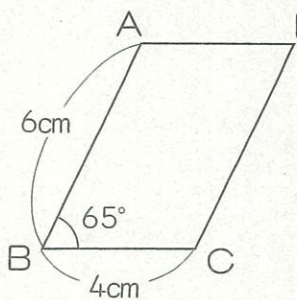
100
90点以上で合格

★台形と平行四辺形を選んで、記号を答えましょう。




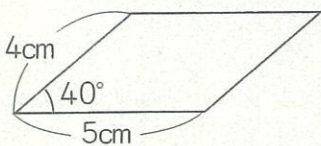
① 台形
()
② 平行四辺形
()

★下の平行四辺形の角度や辺の長さを求めましょう。



③ 角A () ④ 辺AD ()
⑤ 角D () ⑥ 辺CD ()
⑦ 角C ()

★次の平行四辺形を書きましょう。



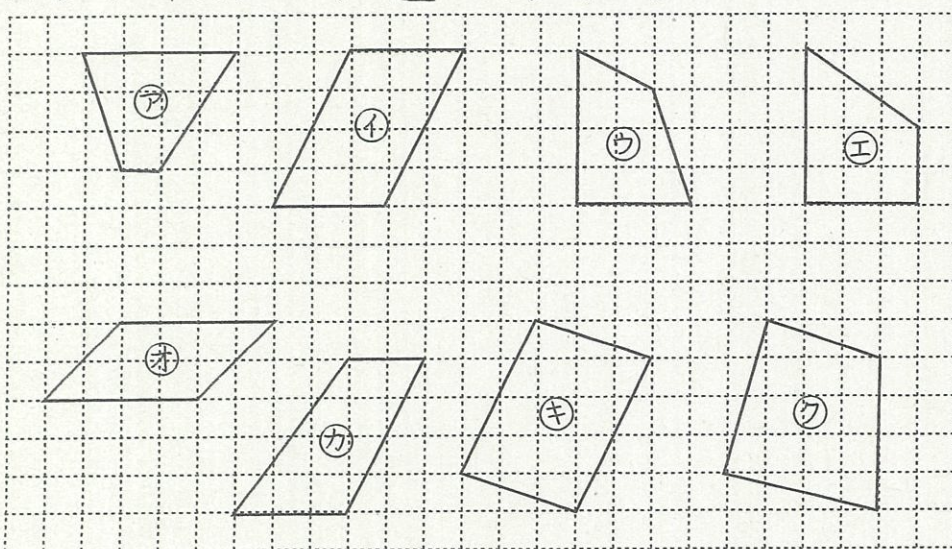
①~⑦ 各10点 ⑧ 30点

愛知川小 5分間ステップアップ学習

名前 ()

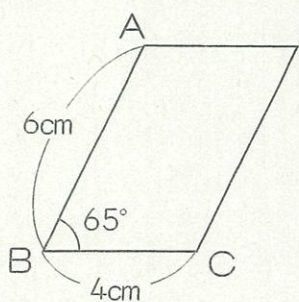
<p>【学習名】 垂直, 平行と四角形</p>	<div style="font-size: 2em; font-weight: bold;">100</div> <p>90点以上で合格</p>
<p>【学習のめあて】 平行の特徴を知り、平行四辺形をかける。</p>	
<p>【ふりかえり】 ◎よくわかる ○わかる △わからない</p>	

★ 台形と平行四辺形を選んで、記号を答えましょう。



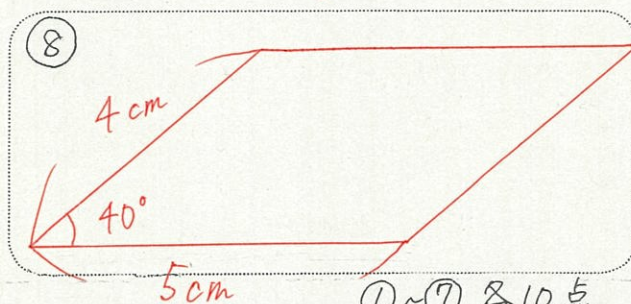
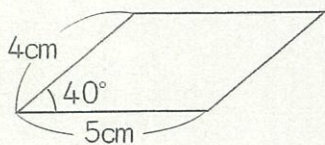
- ① 台形
(ア, エ, カ)
- ② 平行四辺形
(イ, オ, キ)

★ 下の平行四辺形の角度や辺の長さを求めましょう。



- ③ 角A (115°(度)) ④ 辺AD (4cm)
- ⑤ 角D (65°(度)) ⑥ 辺CD (6cm)
- ⑦ 角C (115°(度))

★ 次の平行四辺形を書きましょう。



①~⑦ 各10点 ⑧ 30点