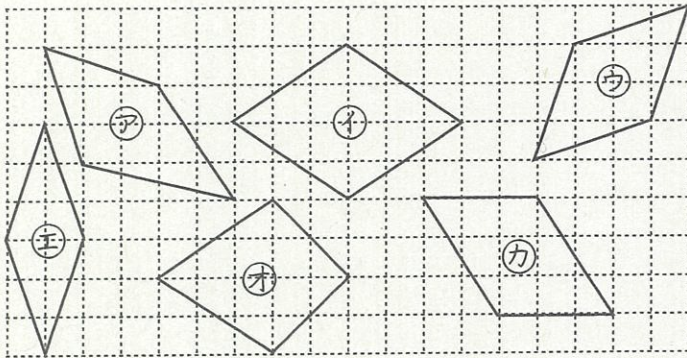


愛知川小 5分間ステップアップ学習

名前 ()


<p>【学習名】 垂直, 平行と四角形</p>	<div style="font-size: 2em; font-weight: bold;">100</div> <p>90点以上で合格</p>
<p>【学習のめあて】 ひし形の特徴を知り、ひし形がかけられる。</p>	
<p>【ふりかえり】 ◎よくわかる ○わかる △わからない</p>	

★ 下の㉑～㉗の中で、ひし形はどれですか。記号を答えましょう。


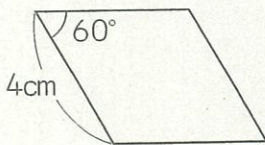


① ()

★ 次のひし形の角度や辺の長さを求めましょう。



★ 次のひし形を書きましょう。

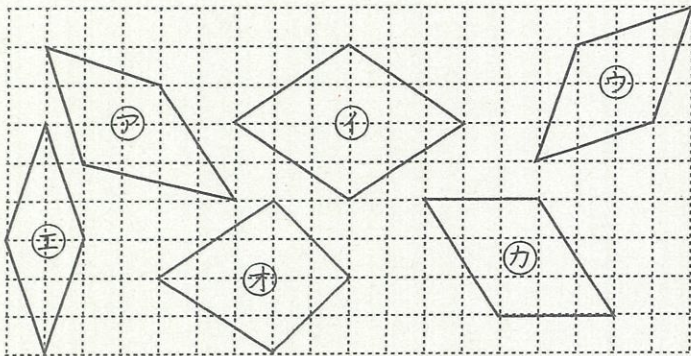


愛知川小 5分間ステップアップ学習

名前 ()

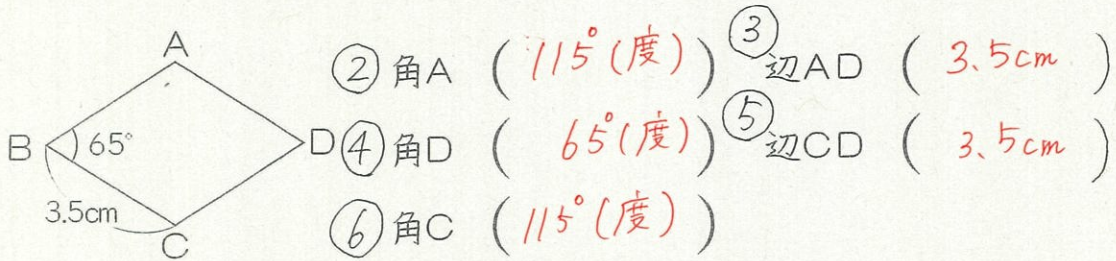
<p>【学習名】 垂直, 平行と四角形</p>	<p>100</p> <p>90点以上で合格</p>
<p>【学習のめあて】 ひし形の特徴を知り、ひし形がかけらる。</p>	
<p>【ふりかえり】 ◎よくわかる ○わかる △わからない</p>	

★ 下の㊶～㊴の中で、ひし形はどれですか。記号を答えましょう。

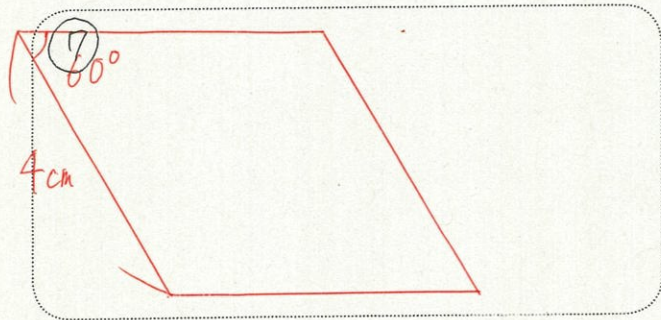
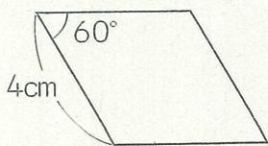


① (㊶, ㊴, ㊸)

★ 次のひし形の角度や辺の長さを求めましょう。



★ 次のひし形を書きましょう。



① 20点 ②～⑤ 各10点 ⑦ 30点