
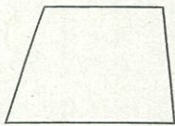


愛知川小 5分間ステップアップ学習

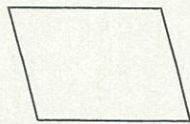
名前 ()

【学習名】	垂直、平行と四角形	 <small>てんいじょう ごうかく</small> 90点以上で合格
【学習のめあて】	いろいろな四角形の対角線の特徴がわかる <small>とくちょう</small>	
【ふりかえり】	◎よくわかる ○わかる △わからない	

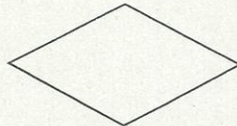
① 次の四角形に2本の対角線をひきましょう。 ※ すべて合計10点




台形




平行四辺形



ひし形



長方形

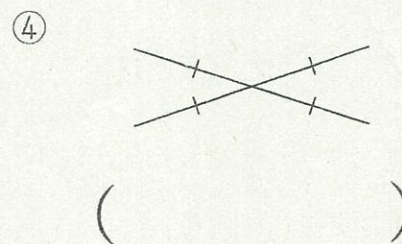
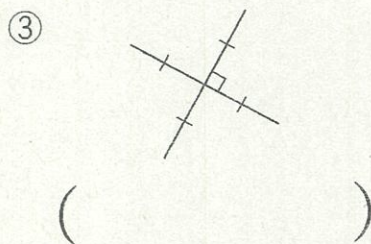
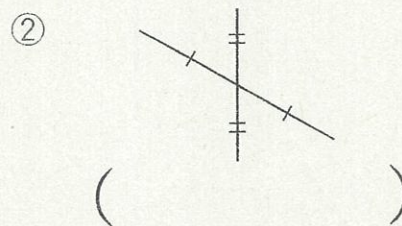
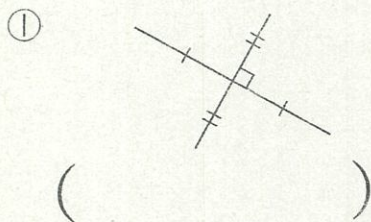


正方形

四角形		四角形				
		台形	平行四辺形	ひし形	長方形	正方形
2本の対角線の長さや交わり方						
2本の対角線の長さが等しい						
2本の対角線の交わり方	垂直である					
	それぞれの真ん中の点で交わる					

② 上の表の当てはまるところに○をつけましょう。 ※ すべて合計10点

★ 次の対角線になる四角形の名前を答えましょう。



①、② 各10点、③～⑥ 各20点

愛知川小 5分間ステップアップ学習

名前 ()

【学習名】

垂直、平行と四角形

【学習のめあて】

いろいろな四角形の対角線の特徴がわかる
とくちょう

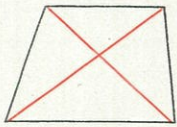
【ふりかえり】

◎よくわかる ○わかる △わからない


100

90点以上で合格

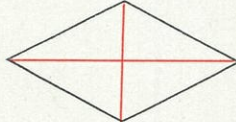
① 次の四角形に2本の対角線をひきましょう。 ※ すべて合計10点



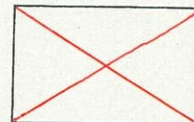
台形




平行四辺形



ひし形



長方形



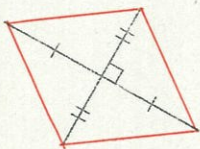
正方形

四角形		四角形				
		台形	平行四辺形	ひし形	長方形	正方形
2本の対角線の長さや交わり方						
2本の対角線の長さが等しい					○	○
2本の対角線の交わり方	垂直である			○		○
	それぞれの真ん中の点で交わる		○	○	○	○

② 上の表の当てはまるところに○をつけましょう。 ※ すべて合計10点

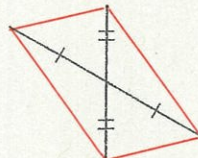
★ 次の対角線になる四角形の名前を答えましょう。

①



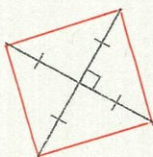
(ひし形)

②




(平行四辺形)

③



(正方形)

④



(長方形)

①、②各10点、③～⑥各20点