


愛知川小 5分間ステップアップ学習

名前 ()

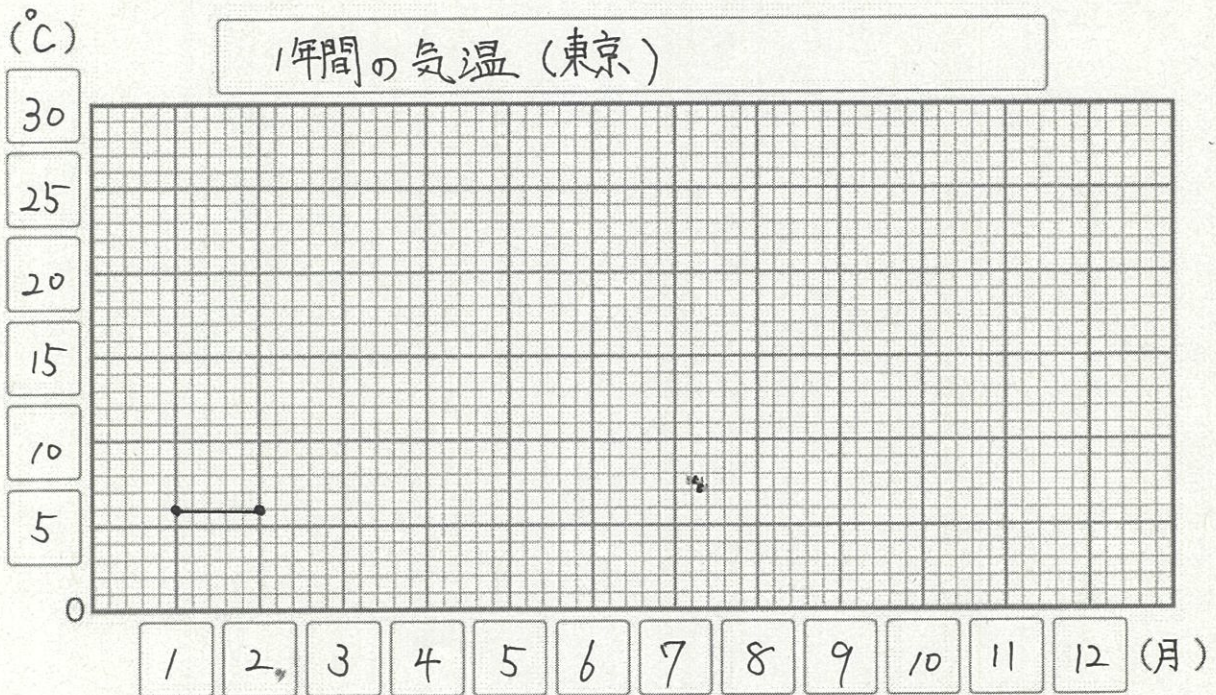
| | | |
|----------|--------------------------|---|
| 【学習名】 | 折れ線グラフと表 |  100 <small>てんじょう ぐうかく</small> 90点以上で合格 |
| 【学習のめあて】 | 折れ線グラフをかくことができる。 | |
| 【ふりかえり】 | ◎よくわかる ○わかる △わからない | |

下の表は、東京の1年間の気温の変わり方を表したものです。

方眼ほうがんに折れ線グラフを書きましょう。

1年間の気温（東京）

| | | | | | | | | | | | | |
|--------|---|---|---|----|----|----|----|----|----|----|----|----|
| 月 | 1 | 2 | 3 | 4 | 5 | 6 | 7 | 8 | 9 | 10 | 11 | 12 |
| 気温(°C) | 6 | 6 | 9 | 14 | 19 | 22 | 25 | 27 | 23 | 18 | 13 | 8 |



※3月～12月まで正しく、点を打ち、線が引けていたら○

各10点

愛知川小 5分間ステップアップ学習

名前 ()

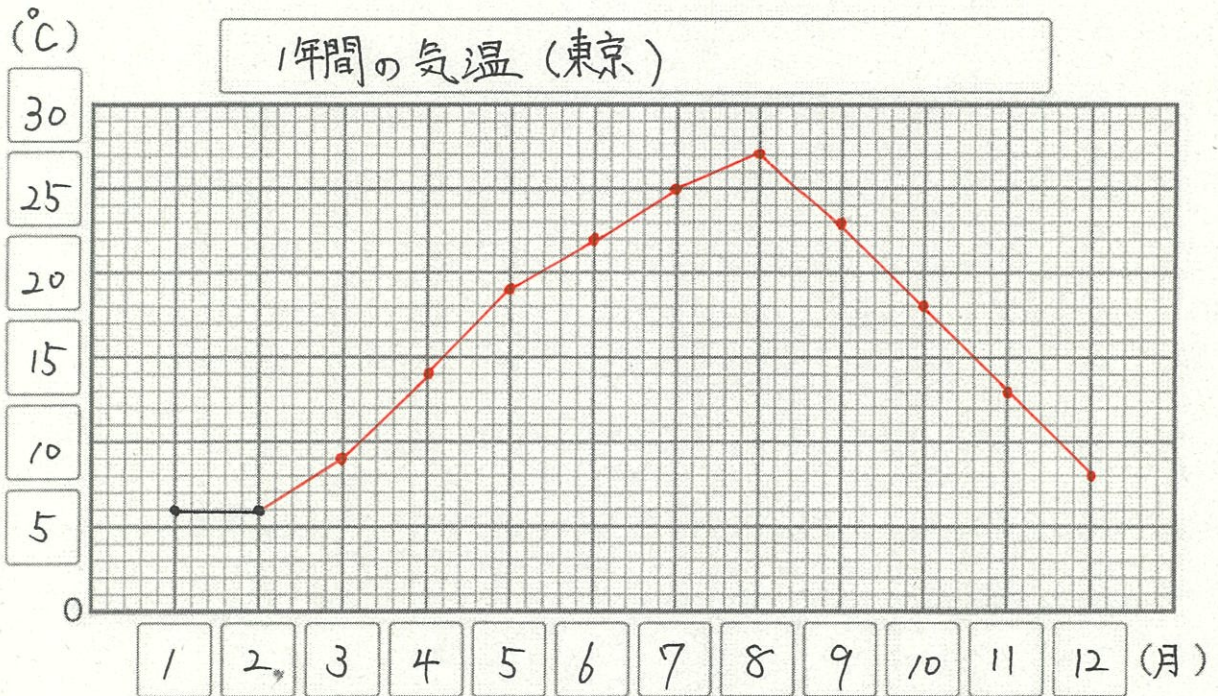
| | |
|--|---|
| 【学習名】 <h2 style="text-align: center;">折れ線グラフと表</h2> | <small>てんじょう ころかく</small> 90点以上で合格 |
| 【学習のめあて】 折れ線グラフをかくことができる。 | |
| 【ふりかえり】 <input type="radio"/> よくわかる <input type="radio"/> わかる <input type="radio"/> わからない | |

下の表は、東京の1年間の気温の変わり方を表したものです。

方眼に折れ線グラフを書きましょう。

1年間の気温（東京）

| | | | | | | | | | | | | |
|--------|---|---|---|----|----|----|----|----|----|----|----|----|
| 月 | 1 | 2 | 3 | 4 | 5 | 6 | 7 | 8 | 9 | 10 | 11 | 12 |
| 気温(°C) | 6 | 6 | 9 | 14 | 19 | 22 | 25 | 27 | 23 | 18 | 13 | 8 |



※3月～12月まで正しく、点を打ち、線が引けていたら○
各10点