

愛知川小 5分間ステップアップ学習

名前 ()

【学習名】

垂直・平行と四角形

【学習のめあて】

合同な平行四辺形・台形・ひし形をしきつめた図形を観察して、それぞれの図形の性質について理解を深めることができる。

【ふりかえり】

◎よくわかる ○わかる △わからない

100

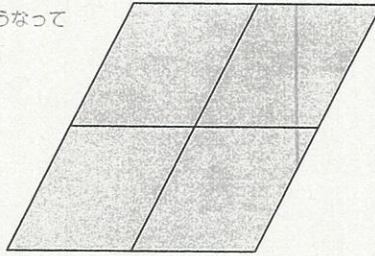

90点以上で合格

◆ 次のように、形も大きさも同じ四角形をしきつめて、大きな四角形をつくります。できた四角形の名前を答えましょう。

(各25点)

① 平行四辺形

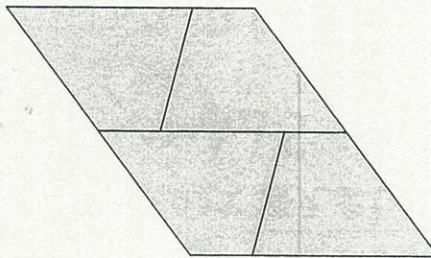
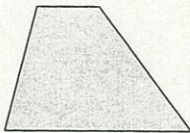
ヒント 辺の長さや角の大きさがどうなっているか調べよう。



答え

()



② 台形



答え

()


③ ひし形



答え

()

④ ひし形



答え

()

愛知川小 5分間ステップアップ学習

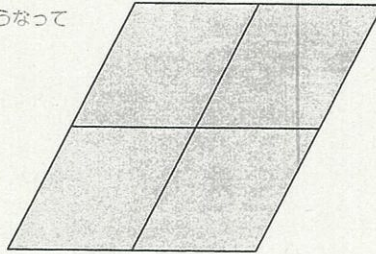
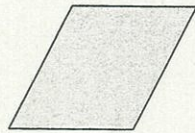
名前 ()

<p>【学習名】 垂直・平行と四角形</p>	<p>100</p> <p>90点以上で合格</p>
<p>【学習のめあて】 合同な平行四辺形・台形・ひし形をしきつめた図形を観察して、それぞれの図形の性質について理解を深めることができる。</p>	
<p>【ふりかえり】 ◎よくわかる ○わかる △わからない</p>	

◆ 次のように、形も大きさも同じ四角形をしきつめて、大きな四角形をつくります。できた四角形の名前を答えましょう。

(各25点)

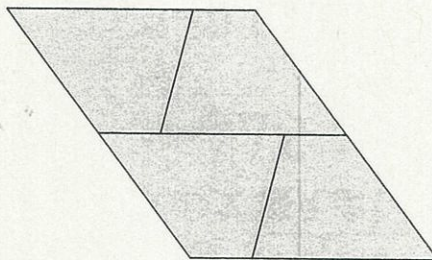
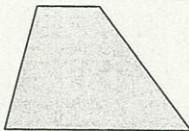
① へいこうし へんけい 平行四辺形
ヒント 辺の長さや角の大きさがどうなっているか調べよう。



答え

(平行四辺形)



② だいけい 台形



答え

(平行四辺形)



③ がた ひし形



答え

(ひし形)

④ ひし形



答え

(平行四辺形)