
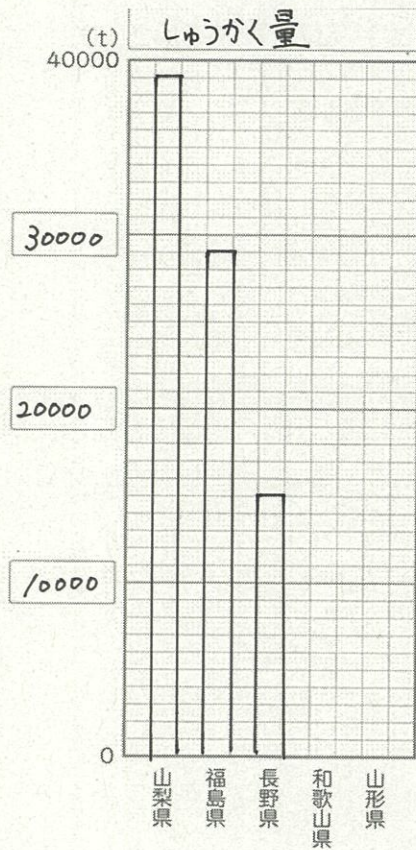


愛知川小 5分間ステップアップ学習

名前 ()

【学習名】	がい数	 <small>てんいじょう ごうかく</small> 90点以上で合格
【学習のめあて】	大きな数量の資料を見てグラフに表したり、 目的に応じて見つもりの仕方を考えることができる。	
【ふりかえり】	◎よくわかる ○わかる △わからない	



山梨県	39200t
福島県	28600t
長野県	14500t
和歌山県	10200t
山形県	8680t

- ① たてじくの1めもりは何tを表していますか。
() t
- ② しゅうかく量を、何の位までのがい数にするとよいですか。
() の位
- ③ 和歌山県のしゅうかくりょうを②で答えた位のがい数にしましょう。
10220t... (約)
- ④ 山形県のしゅうかくりょうを②で答えた位のがい数にしましょう。
8680t... (約)
- ⑤ 和歌山県のしゅうかく量をがい数にして、ぼうグラフに表しましょう。
- ⑥ 山形県のしゅうかく量をがい数にして、ぼうグラフに表しましょう。

左の図を見て答えましょう。

スーパーマーケット 営業時間 9:00~21:00

1000円以上買ったら、割引が1倍できます。

クリームパン 140円	アイスクリーム 230円	トマト 310円
あんパン 170円	クッキー 230円	レタス 190円
食パン 230円	ケーキ 630円	にんじん 230円
パン	おかし	やさい


あかかん 240円	りんご 390円
バナナ 110円	もも 430円
くだもの	

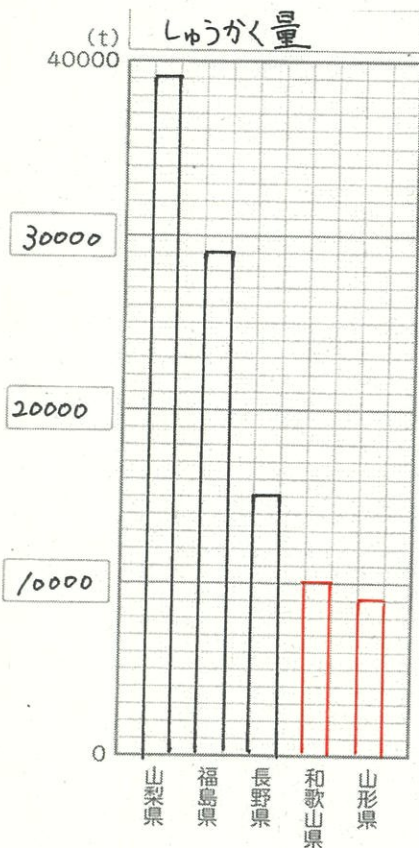
- ⑦ クリームパン、あんパン、食パンを買います。800円で足りるか、見つもりましょう。
式: _____
答え ()
- ⑧ りんごとレタスを買います。700円で足りるか、見つもりましょう
式: _____
答え ()

各10点

愛知川小 5分間ステップアップ学習

名前 ()

【学習名】	がい数	 <small>てんいじょう ごうかく</small> 90点以上で合格
【学習のめあて】	大きな数量の資料を見てグラフに表したり、 目的に応じて見つもりの仕方を考えることができる。	
【ふりかえり】	◎よくわかる ○わかる △わからない	



山梨県	39200t
福島県	28600t
長野県	14500t
和歌山県	10200t
山形県	8680t

- ① たてじくの1めもりは何tを表していますか。
(1000 t)
- ② しゅうかく量を、何の位までのがい数にするとよいですか。
(千 の位)
- ③ 和歌山県のしゅうかくりょうを②で答えた位のがい数にしましょう。
10220 t... (約 10000 t)
- ④ 山形県のしゅうかくりょうを②で答えた位のがい数にしましょう。
98680 t... (約 9000 t)
- ⑤ 和歌山県のしゅうかく量をがい数にして、ぼうグラフに表しましょう。
- ⑥ 山形県のしゅうかく量をがい数にして、ぼうグラフに表しましょう。

左の図を見て答えましょう。

- ⑦ クリームパン、あんパン、食パンを買います。800円で足りるか、見つもりましょう。

式: $200 + 200 + 300 = 700$

答え (足り)

- ⑧ りんごとレタスを買います。700円で足りるか、見つもりましょう

式: $400 + 200 = 600$

答え (足り)

各10点