



愛知川小 5分間ステップアップ学習

名前 ()

【学習名】 倍のかけ算、わり算	 <small>てんじょう じゅうかく</small> 90点以上で合格
【学習のめあて】 倍のかけ算、わり算ができる。	
【ふりかえり】 ◎よくわかる ○わかる △わからない	
<p>① 先月、25cmの高さだったひまわりが、今月には6倍の高さになっていました。</p> <p>☆ ひまわりの高さは何cmになりますか。式を書いて、答えをもとめましょう。</p> <p>・ 式() 答え()</p> <p>☆ 25cmを1とみたとき、3にあたる高さは何cmですか。</p> <p style="text-align: right;">答え()</p> <p>② こころさんが飼っている猫の今の体重は16kgで、去年の体重の4倍です。去年の体重は何kgですか。</p> <p>式() 答え()</p> <p>③ ひなたさんの年れいは5さいです。おじいさんの年れいは50さいです。おじいさんの年れいは、ひなたさんの年れいの何倍ですか。</p> <p>式() 答え()</p> <p>④ 先月90円だったキウイが、180円に値上がりしました。また、30円だったりんごが120円に値上がりしました。</p> <p>どちらの方が大きく値上がりしたと言えるか、割合を使って比べましょう。</p> <div style="text-align: center;">  </div> <p style="text-align: right;">答え()</p> <p style="text-align: center;">①~③()...10点 ④()...30点</p>	

愛知川小 5分間ステップアップ学習

名前 ()

【学習名】

倍とかけ算、わり算

【学習のめあて】

1倍のかけ算、わり算ができる。

【ふりかえり】

◎よくわかる

○わかる

△わからない

100

90点以上で合格

① 先月、25cmの高さだったひまわりが、今月には6倍の高さになっていました。

☆ ひまわりの高さは何cmになりますか。式を書いて、答えをもとめましょう。

・ 式($25 \times 6 = 150$) 答え(150cm)

☆ 25cmを1とみたとき、3にあたる高さは何cmですか。

$25 \times 3 = 75$ 答え(75cm)

② こころさんが飼っている猫の今の体重は16kgで、去年の体重の4倍です。去年の体重は何kgですか。


式($16 \div 4 = 4$) 答え(4kg)

③ ひなたさんの年れいは5さいです。おじいさんの年れいは50さいです。おじいさんの年れいは、ひなたさんの年れいの何倍ですか。

式($50 \div 5 = 10$) 答え(10倍)

④ 先月90円だったキウイが、180円に値上がりしました。また、30円だったりんごが120円に値上がりしました。

どちらの方が大きく値上がりしたと言えるか、割合を使って比べましょう。



④ $180 \div 90 = 2$

④ $120 \div 30 = 4$

答え($りんご$)

①~③()...10点 ④()...30点