
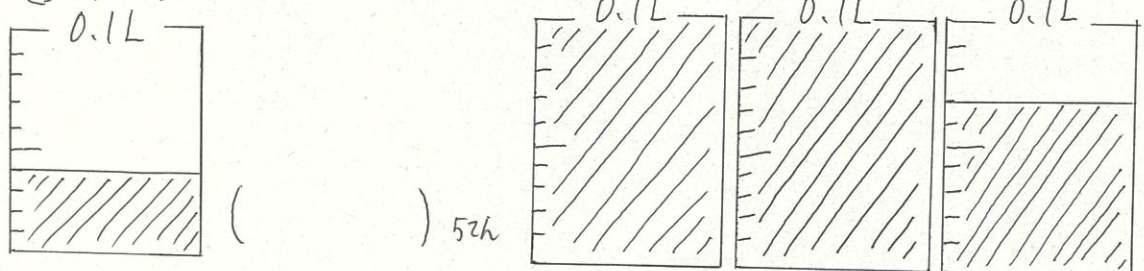


愛知川小 5分間ステップアップ学習

名前 ()


【学習名】 小数	 <small>でんじよう こうかく</small> 90点以上で合格
【学習のめあて】 1/1000の位までの数値を表すことができる。	
【ふりかえり】 ◎よくわかる ○わかる △わからない	

① 次の水のかさは何Lですか。



- ② 139cmは何mですか。() () 52%
- ③ 312cmは()mです。
- ④ 4m59cmは()cmです。

⑤ 次のか〜けの目盛りが表す長さを書きましょう。 * すべて合.2102%



★ 次の数字を()の中の単位で書きましょう。

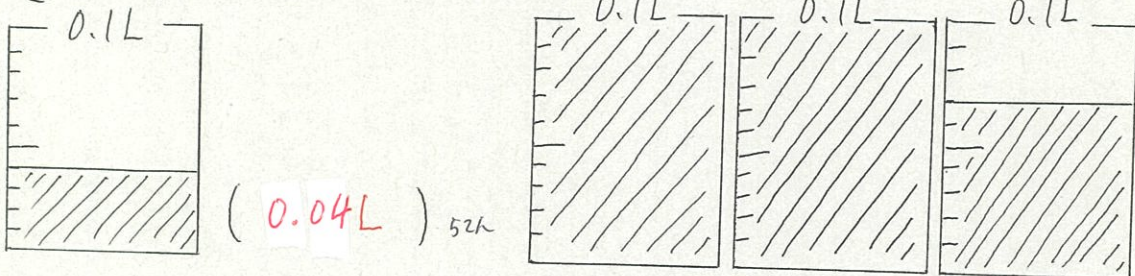
- ⑥ 1876m (km) → ()
- ⑦ 759m (km) → ()
- ⑧ 4123g (kg) → ()
- ⑨ 2.715km (m) → ()
- ⑩ 1.608kg (g) → ()

愛知川小 5分間ステップアップ学習

名前 ()

【学習名】 小数	<div style="font-size: 2em; font-weight: bold;">100</div> <p style="font-size: 0.8em;">てんいじょう ちゅうかく 90点以上で合格</p>
【学習のめあて】 $\frac{1}{1000}$ の位までの数を表すことができる。	
【ふりかえり】 ◎よくわかる ○わかる △わからない	

① 次の水のかさは何Lですか。



(0.04L) 52人

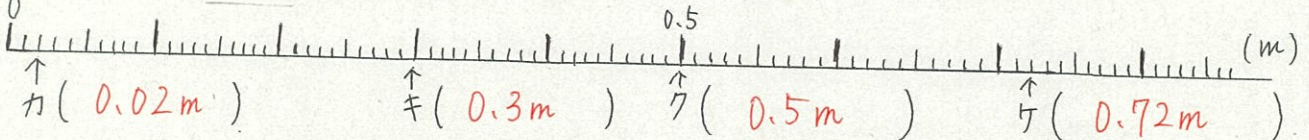
② 139cmは何mですか。 (1.39m)

(0.27L) 52人

③ 312cmは (3.12) mです。

④ 4m59cmは (4.59) mです。

⑤ 次のカ～ケの目もりが表す長さを書きましょう。 * すべて合、210cm



★ 次の数字を () の中の単位を書きましょう。

⑥ 1876m (km) → (1.876km)

⑦ 759m (km) → (0.759km)

⑧ 4123g (kg) → (4.123kg)

⑨ 2.715km (m) → (2715m)

⑩ 1.608kg (g) → (1608g)

①～⑩ 各10点