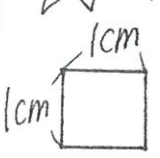


# 愛知川小 5分間ステップアップ学習

名前 ( )

<p>【学習名】</p> <p style="text-align: center;">面積</p>	<p style="font-size: 2em;">/ 100</p> <p>てんいじょう とうかく 90点以上で合格</p>
<p>【学習のめあて】</p> <p>□形の面積を「<math>cm^2</math>」で表すことができる。</p>	
<p>【ふりかえり】</p> <p>◎よくわかる    ○わかる    △わからない</p>	

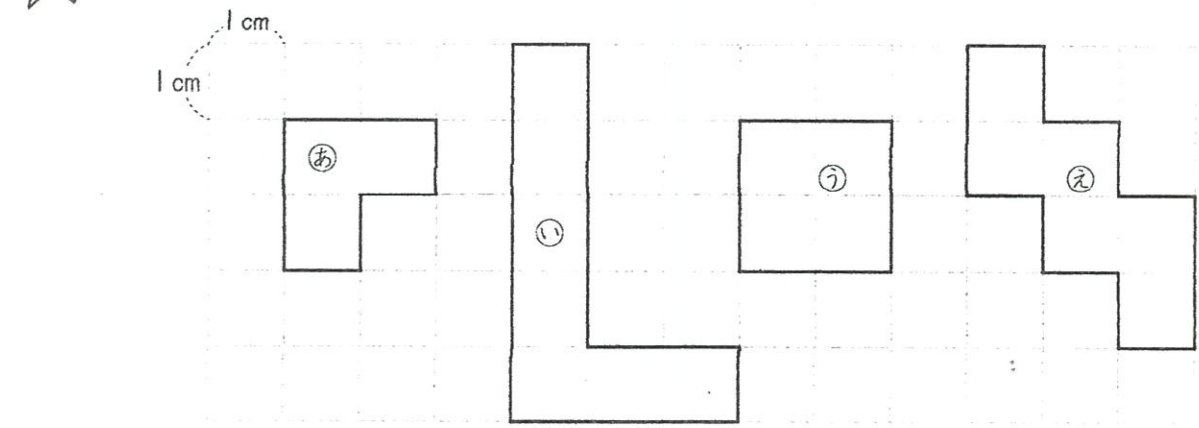
★ ( )にあてはまる言葉をかきましょう。 ( )各10点



① 広さのことを ( )といいます。

② 1辺が1cmの正方形の面積を ( )  
といい、 ( )とかけます。

★



- ① ㊀～㊄の面積を求めましょう。
- ㊀ ( )    ㊁ ( )
- ㊂ ( )    ㊃ ( )
- ② 一番小さい面積はどれですか。 ( )
- ③ 一番大きい面積はどれですか。 ( )
- ④ ㊁は㊀より何 $cm^2$ 大きいですか。 ( )

# 愛知川小 5分間ステップアップ学習

名前 ( )

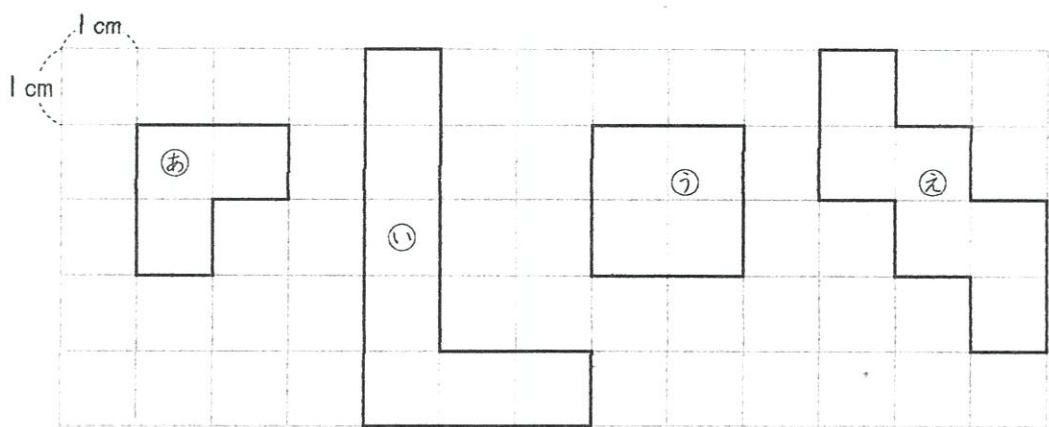
【学習名】	面積	<div style="font-size: 2em; font-weight: bold;">100</div> <small>てんいじょう とうかく</small> 90点以上で合格
【学習のめあて】	□形の面積を「 $cm^2$ 」で表すことができる。	
【ふりかえり】	◎よくわかる    ○わかる    △わからない	



( )にあてはまる言葉をかきましょう。 ( )各10点

① 広さのことを ( **面積** ) といいます。

② 1辺が1 cmの正方形の面積を ( **1平方センチメートル** )  
といい、 (  **$1cm^2$**  ) とかきます。



- ① ①～④の面積を求めましょう。
- ① (  **$3cm^2$**  )    ② (  **$7cm^2$**  )
- ③ (  **$4cm^2$**  )    ④ (  **$6cm^2$**  )
- ⑤ 一番小さい面積はどれですか。 ( **①** )
- ⑥ 一番大きい面積はどれですか。 ( **②** )
- ⑦ ②は①より何 $cm^2$ 大きいですか。 (  **$4cm^2$**  )