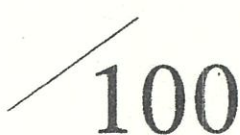


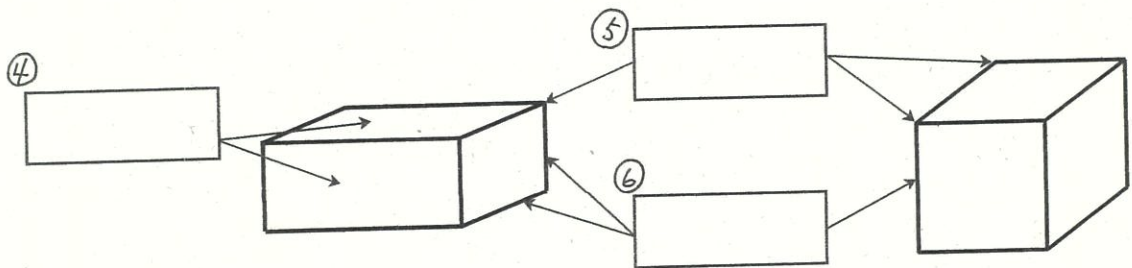
# 愛知川小 5分間ステップアップ学習

名前 ( )

【学習名】	直方体と立方体	 <small>てんじよう とうかく</small> 90点以上で合格
【学習のめあて】	面の形に着目して、箱の形を分類することができる。	
【ふりかえり】	◎よくわかる    ○わかる    △わからない	

☆ □にあてはまる言葉をかきましょう。

- ① 長方形だけで囲まれた形を  といいます。
- ② 長方形と正方形で囲まれた形を  といいます。
- ③ 正方形だけで囲まれた形を  といいます。



☆ ( )に言葉や数字を入れて、下の表を完成させましょう。

	( )の数	辺の数	(頂点)の数
直方体	6	( )	8
立方体	6	( )	( )

各10点

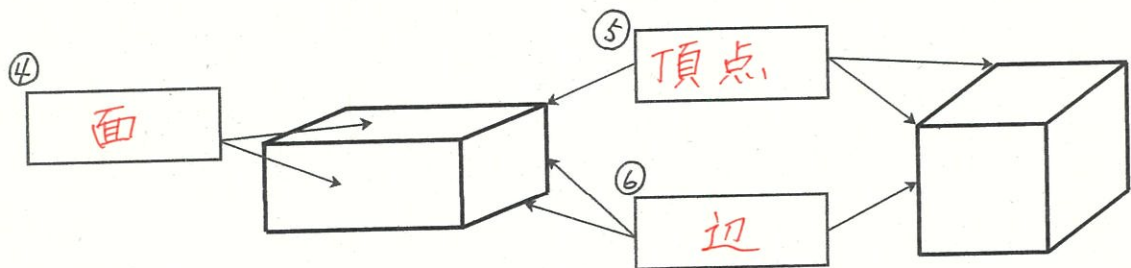
# 愛知川小 5分間ステップアップ学習

名前 ( )

【学習名】	直方体と立方体	<div style="font-size: 2em; font-weight: bold;">100</div> <small>てんじようごうかく</small> 90点以上で合格
【学習のめあて】	面の形に着目して、箱の形を分類することができる。	
【ふりかえり】	◎よくわかる    ○わかる    △わからない	

☆ □にあてはまる言葉をかきましょう。

- ① 長方形だけで囲まれた形を **直方体** といいます。
- ② 長方形と正方形で囲まれた形を **直方体** といいます。
- ③ 正方形だけで囲まれた形を **立方体** といいます。



☆ ( )に言葉や数字を入れて、下の表を完成させましょう。

	( <b>面</b> )の数	<b>辺</b> の数	( <b>頂点</b> )の数
直方体	6	( <b>12</b> )	8
立方体	6	( <b>12</b> )	( <b>8</b> )

各10点