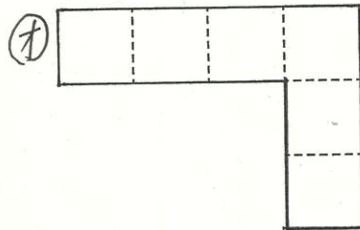
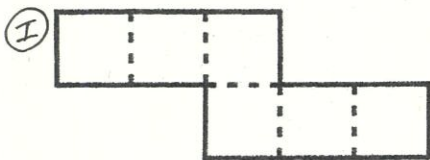
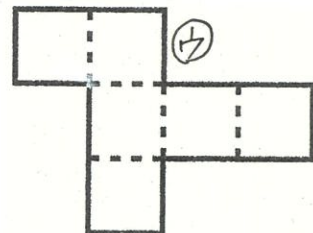
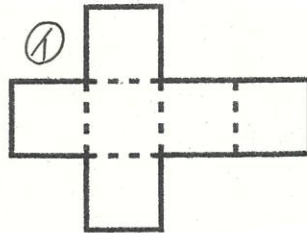
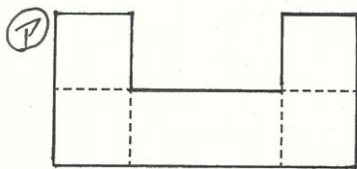


愛知川小 5分間ステップアップ学習

名前 ()

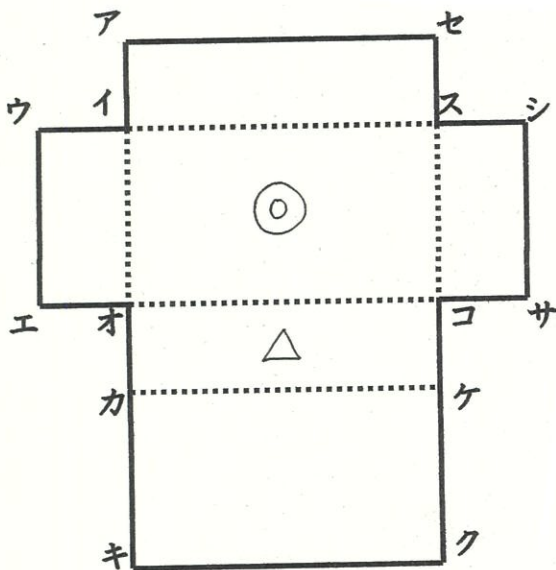
<p>【学習名】 直方体と立方体</p>	<p>100</p> <p><small>てんいじょう ちゅうかく</small> 90点以上で合格</p>
<p>【学習のめあて】 展開図を理解し、重なる点や辺を見つけることができる。</p>	
<p>【ふりかえり】 ◎よくわかる ○わかる △わからない</p>	

☆立方体の正しい展開図はどれですか。3つえらびましょう。



() () ()

☆下の直方体の展開図を組み立てます。



- ① 点ケと重なる点 ()
- ② 点シと重なる点 () ()
- ③ 辺カキと重なる辺 ()
- ④ 辺アセと重なる辺 ()
- ⑤ ◎の面と向かい合う面に◎をつけましょう。
- ⑥ △の面と向かい合う面に△をつけましょう。

各10点

愛知川小 5分間ステップアップ学習

名前 ()

<p>【学習名】 直方体と立方体</p>	<p>100</p> <p>90点以上で合格</p>
<p>【学習のめあて】 展開図を理解し、重なる点や辺を見つけることができる。</p>	
<p>【ふりかえり】 ◎よくわかる ○わかる △わからない</p>	

☆立方体の正しい展開図はどれですか。3つえらびましょう。

㊦

㊱

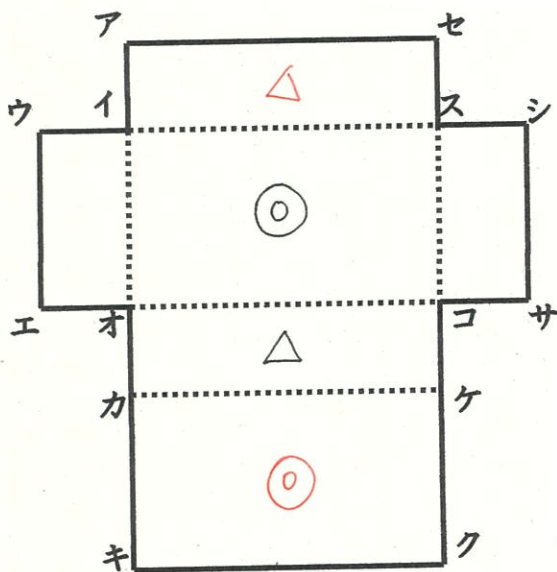
㊲

㊳

㊴

(㊱) (㊲) (㊳)

☆下の直方体の展開図を組み立てます。



- ① 点ケと重なる点 (㊴)
 - ② 点シと重なる点 (セ) (㊱)
 - ③ 辺カキと重なる辺 (辺ウエ)
 - ④ 辺アセと重なる辺 (辺キク)
 - ⑤ ①の面と向かい合う面に①を
つけましょう。
 - ⑥ ②の面と向かい合う面に②を
つけましょう。
- 各10点