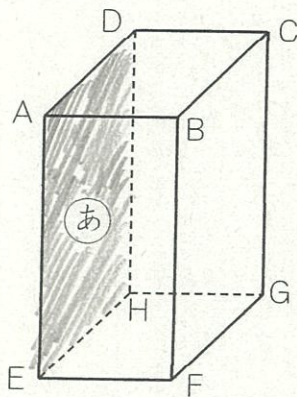


# 愛知川小 5分間ステップアップ学習

名前 ( )

<p>【学習名】</p> <p style="text-align: center;">直方体と立方体</p>	<p style="font-size: 2em;">100</p> <p>90点以上で合格</p>
<p>【学習のめあて】</p> <p>直方体の対応する面や辺を見つけることができる。</p>	
<p>【ふりかえり】</p> <p>◎よくわかる    ○わかる    △わからない</p>	

次の問いに答えましょう。



① 辺ADに垂直な辺はどこですか。

辺AB, ( )

辺AE, ( )

② 辺ADに平行な辺はどこですか。

( ) ( ) ( )

③ 面aに垂直な辺はどこですか。

辺AB, 辺EF, ( ), ( )

④ 面aに平行な辺はどこですか。

辺BF, 辺BC, ( ), ( )

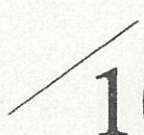
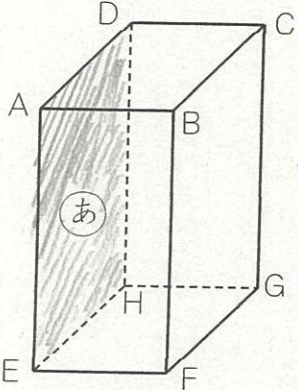
⑤ 面aに垂直な面はいくつありますか。 ( )

各10点



## 愛知川小 5分間ステップアップ学習

名前 ( )

【学習名】 直方体と立方体	 100 <small>てんじようごうかく</small> 90点以上で合格
【学習のめあて】 直方体の対応する面や辺を見つけることができる。	
【ふりかえり】      ◎よくわかる      ○わかる      △わからない	
<p>次の問いに答えましょう。</p> <div style="display: flex; align-items: flex-start;"> <div style="flex: 1;">  </div> <div style="flex: 2;"> <p>① 辺ADに垂直な辺はどこですか。          辺AB, ( 辺DC )          辺AE, ( 辺DH )</p> <p>② 辺ADに平行な辺はどこですか。          ( 辺BC ) ( 辺FG ) ( 辺EH )</p> <p>③ 面あに垂直な辺はどこですか。          辺AB, 辺EF, ( 辺DC ), ( 辺HG )</p> <p>④ 面あに平行な辺はどこですか。          辺BF, 辺BC, ( 辺CG ), ( 辺FG )</p> <p>⑤ 面あに垂直な面はいくつありますか。 ( 4つ )</p> <p style="text-align: right;">各10点</p> </div> </div>	