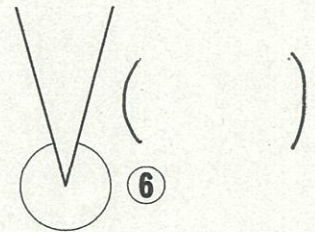
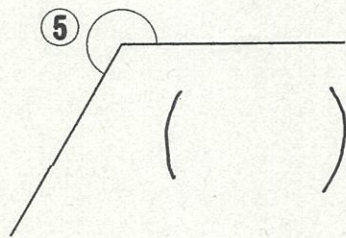
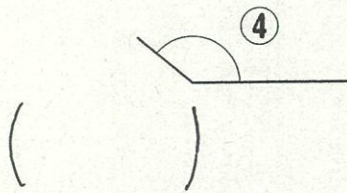

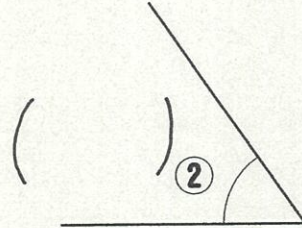
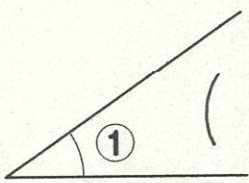


愛知川小 5分間ステップアップ学習

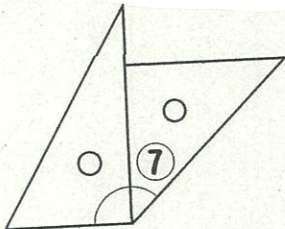
名前 ()

<p>【学習名】 角度</p>	<p>100</p> <p>てんいじょう とうかく 90点以上で合格</p>
<p>【学習のめあて】 角の大きさをはかることができる。(分度器を使って)</p>	
<p>【ふりかえり】 ◎よくわかる ○わかる △わからない</p>	

★分度器を使って、次の角度をはかりましょう。 ()...各10点

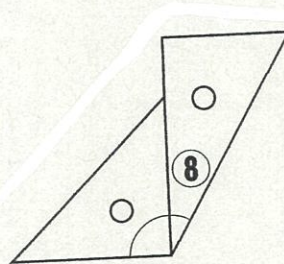


★次の角度は何度ですか。



式 ()

答え ()



式 ()

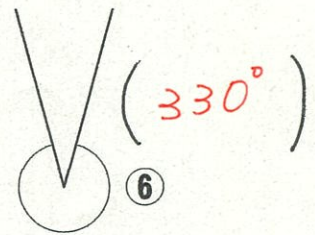

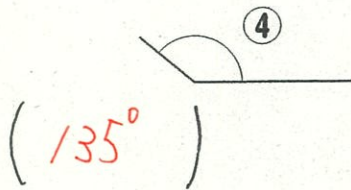
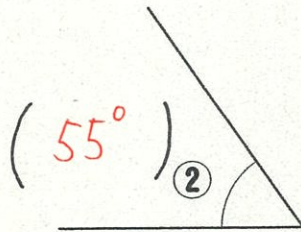
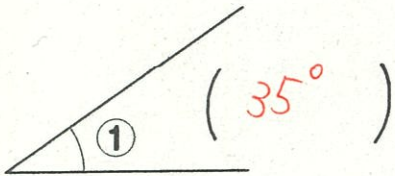
答え ()

愛知川小 5分間ステップアップ学習

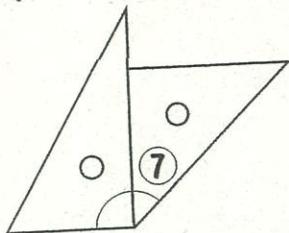
名前 ()

<p>【学習名】 角度</p>	<p>100</p> <p>90点以上で合格</p>
<p>【学習のめあて】 角の大きさをはかることができる。(分度器を使って)</p>	
<p>【ふりかえり】 <input checked="" type="radio"/>よくわかる <input type="radio"/>わかる <input type="radio"/>わからない</p>	

☆分度器を使って、次の角度をはかりましょう。 ()...各10点

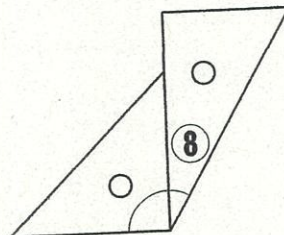


☆ 次の角度は何度ですか。



式 ($90^\circ + 45^\circ = 135^\circ$)

答え (135°)



式 ($90^\circ + 30^\circ = 120^\circ$)

答え (120°)