



愛知川小 5分間ステップアップ学習

名前 ()

【学習名】	角度	 <small>てんいじょう ごうかく</small> 90点以上で合格
【学習のめあて】	いろいろな大きさの角をかくことができる。	
【ふりかえり】	◎よくわかる ○わかる △わからない	

☆ 次の大きさの角をかきましょう。


① 50°



② 75°



③ 120°



④ 165°



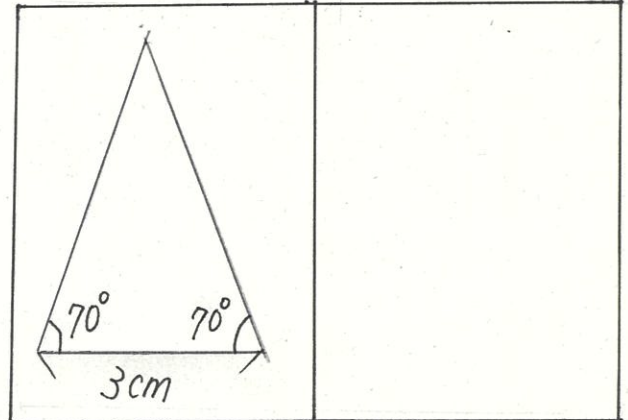
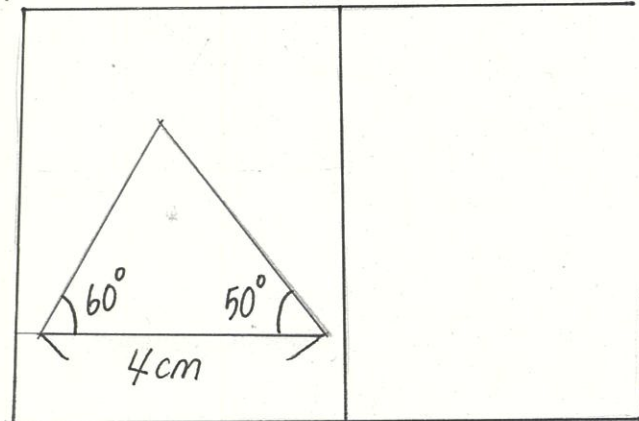
⑤ 200°



⑥ 350°



☆ 次の三角形をかきましょう。



愛知川小 5分間ステップアップ学習

名前 ()

<p>【学習名】 角度</p>	<p>100</p> <p>てんいじょう とうかく 90点以上で合格</p>
<p>【学習のめあて】 いろいろな大きさの角をかくことができる。</p>	
<p>【ふりかえり】 ◎よくわかる ○わかる △わからない</p>	

☆ 次の大きさの角をかきましょう。 各10点

<p>① 50°</p>	<p>② 75°</p>	<p>③ 120°</p>
<p>④ 165°</p>	<p>⑤ 200°</p>	<p>⑥ 350°</p>

☆ 次の三角形をかきましょう。 各20点

--	--	--	--