
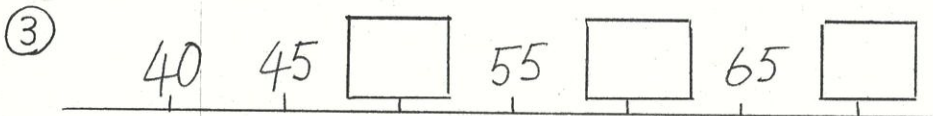
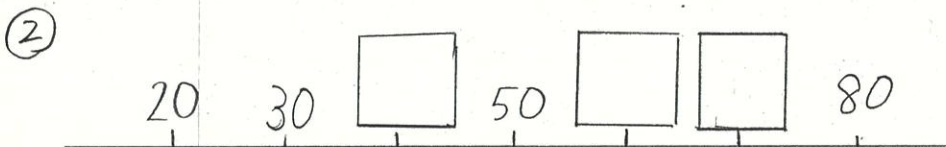



# 愛知川小 5分間ステップアップ学習

名前 ( )

【学習名】 おおきな かず	 <small>ていじょう じやうかく</small> 90点以上で合格
【学習のめあて】 めもりをよくみて、もんだいをとくことができる。	
【ふりかえり】 ◎よくわかる    ○わかる    △わからない	

① □にあうかずをかきましょう。



④ 70より4大きいかずは □ です。

⑤ 40より30ちい小さいかずは □ です。

各10点×10

## 愛知川小 5分間ステップアップ学習

名前 ( )

【学習名】 おおきな かず	100 <small>てんいじょう ごうかく</small> 90点以上で合格
【学習のめあて】 メモリをよくみて、もんだいをとくことができる。	
【ふりかえり】      ◎よくわかる      ○わかる      △わからない	
<p>① □にあうかずをかきましょう。</p> <p>① <span style="border: 1px solid black; padding: 2px;">86</span> 87 88 89 <span style="border: 1px solid black; padding: 2px;">90</span> 91 92 93 94</p> <p>②</p> <p>20 30 <span style="border: 1px solid black; padding: 2px;">40</span> 50 <span style="border: 1px solid black; padding: 2px;">60</span> <span style="border: 1px solid black; padding: 2px;">70</span> 80</p> <p>③</p> <p>40 45 <span style="border: 1px solid black; padding: 2px;">50</span> 55 <span style="border: 1px solid black; padding: 2px;">60</span> 65 <span style="border: 1px solid black; padding: 2px;">70</span></p> <p>④ 70より4大きいかずは <span style="border: 1px solid black; padding: 2px;">74</span> です。</p> <p>⑤ 40より30<small>ちい</small>小さいかずは <span style="border: 1px solid black; padding: 2px;">10</span> です。</p> <p style="text-align: right;">各10点×10</p>	