


愛知川小 5分間ステップアップ学習

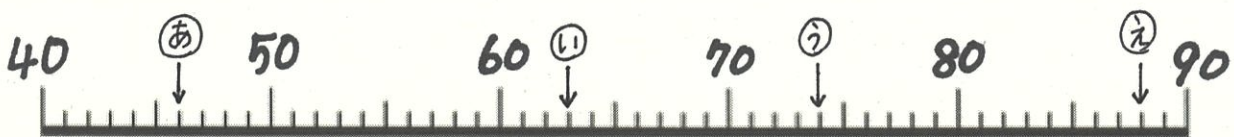
名前 ()

<p>【学習名】 おおきな かず</p>	 <p>100</p> <p><small>てんじょう とうかく</small> 90点以上で合格</p>
<p>【学習のめあて】 1つのかすを いろいろなみかたで あらわすことができる。</p>	
<p>【ふりかえり】 ◎よくわかる ○わかる △わからない</p>	

(1) 46と いう かすを いろいろな みかたで あらわしましょう。

- ① 46は と6を あわせたかずです。
- ② 46は の つぎのかずです。
- ③ 46は 40より おおきいかずです
- ④ 46は 50より ちいさいかずです。
- ⑤ 46は 10を こと1を こをあわせたかず
です。

(2) かすのせんの ㉠, ㉡, ㉢, ㉣のメモリの かすをこたえましょう。



㉠	
㉡	
㉢	
㉣	

愛知川小 5分間ステップアップ学習

名前 ()

【学習名】

おおきな かず

【学習のめあて】

1つのかすを いろいろなみかたで あらわすことができる。

【ふりかえり】

◎よくわかる

○わかる

△わからない

100

90点以上で合格

(1) 46と いう かすを いろいろな みかたで あらわしましょう。

① 46は 40 と6を あわせたかすです。

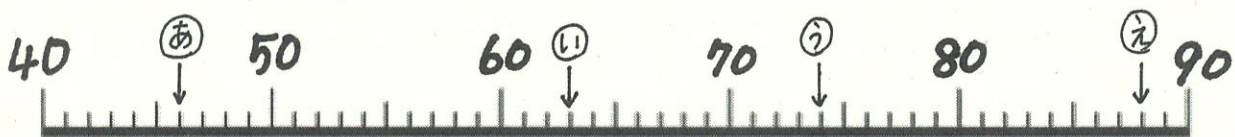
② 46は 45 の つぎのかすです。

③ 46は 40より 6 おおきいかすです

④ 46は 50より 4 ちいさいかすです。

⑤ 46は 10を 4 こと1を 6 こをあわせたかす
です。

(2)かすのせんの ㊦, ㊧, ㊨, ㊩のメモリの かすをこたえましょう。



㊦	46
㊧	63
㊨	74
㊩	88