


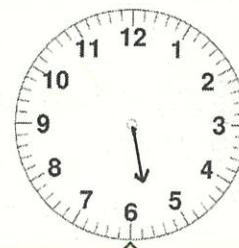

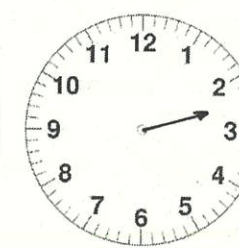


# 愛知川小 5分間ステップアップ学習



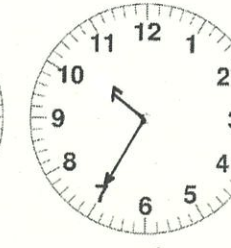
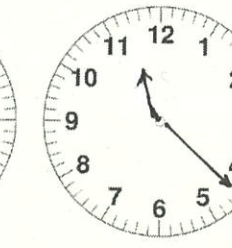
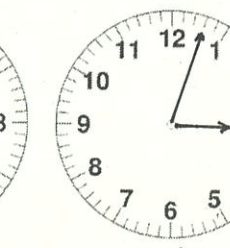
名前 ( )

【学習名】 <b>なんじ なんぷん</b>	 <small>てんいじょう ごうかく</small> 90点以上で合格
【学習のめあて】 <b>じこくをよむことができる。</b>	
【ふりかえり】      ◎よくわかる      ○わかる      △わからない	

(1) ながいはりを かきましょう。


				
7じ20ぷん	10じ48ぷん	5じ52ぷん	4じ32ぷん	2じ40ぷん

(2) せんで おすびましょう。





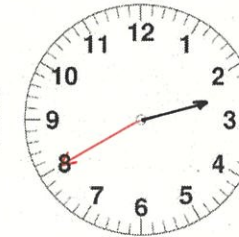
				
6:50	10:35	11:22	1:35	3:03

# 愛知川小 5 分間ステップアップ学習


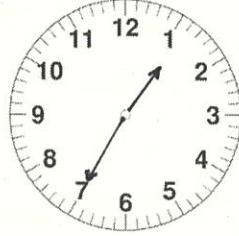

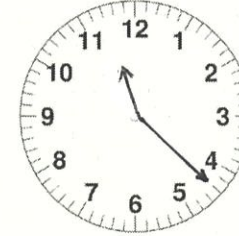
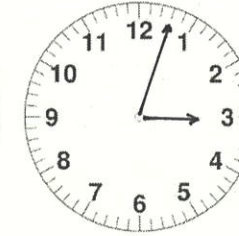
名前 ( )

【学習名】 <b>なんじ なんぷん</b>	 100 <small>てんいじょう ごうかく</small> 90点以上で合格
【学習のめあて】 <b>じこくをよむことができる。</b>	
【ふりかえり】      ◎よくわかる      ○わかる      △わからない	

(1) ながいはりを かきましょう。

				
7じ 20ぷん	10じ 48ぷん	5じ 52ぷん	4じ 32ぷん	2じ 40ぷん

(2) せんで おすびましょう。

				
6 : 50	10 : 35	11 : 22	1 : 35	3 : 03

(Red lines connect the analog clocks to their corresponding digital times: 6:50 to 11:22, 10:35 to 1:35, 11:22 to 10:35, 1:35 to 6:50, 3:03 to 3:03)