

# 愛知川小 5 分間ステップアップ学習

名前 ( )

【学習名】

ずをつかって かんがえよう

【学習のめあて】

ずをつかって しきにあらわすことができる。

【ふりかえり】

◎よくわかる

○わかる

△わからない

100

てんじょう とうかく  
90点以上で合格

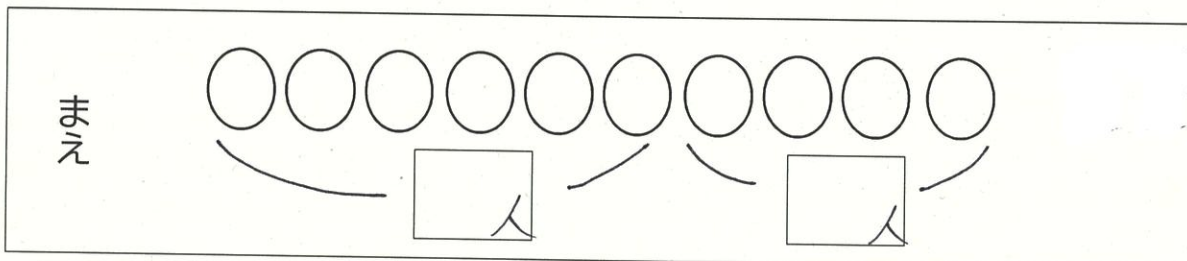
ずを かいて しきとこたえを もとめましょう。

各10点×10

(1) みきさんは まえから 6ばんめにいます。うしろには 4人 います。

みんなで なん人 いますか。

(ず) みきさんのばしょに いろを ぬりましょう。



いろぬり-10点  
A...10点  
B...10点

(しき)

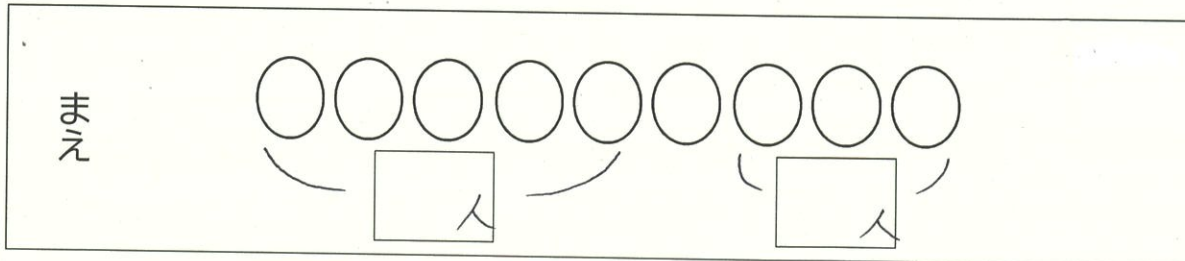
(こたえ)

しき-10点  
こたえ-10点

(2) りかさんの まえには 5人 います。うしろには 3人います。

みんな なん人 いますか。

(ず) りかさんのばしょに いろを ぬりましょう。



(しき)

(こたえ)

# 愛知川小 5 分間ステップアップ学習

名前 ( )

【学習名】 <b>ずをつかって かんがえよう</b>	<div style="font-size: 2em; font-weight: bold;">100</div> <p>てんじょうごうかく 90点以上で合格</p>
【学習のめあて】 <b>ずをつかって しきにあらわすことができる。</b>	
【ふりかえり】 ◎よくわかる    ○わかる    △わからない	


**ずを かいて しきとこたえを もとめましょう。**

各10点×10

(1) みきさんは まえから 6ばんめにいます。うしろには 4人 います。

みんなで なん人 いますか。

(ず) みきさんのばしょに いろを ぬりましょう。



いろぬり 10点  
しき 10点  
こたえ 10点

(しき)

$$6 + 4 = 10$$

(こたえ)

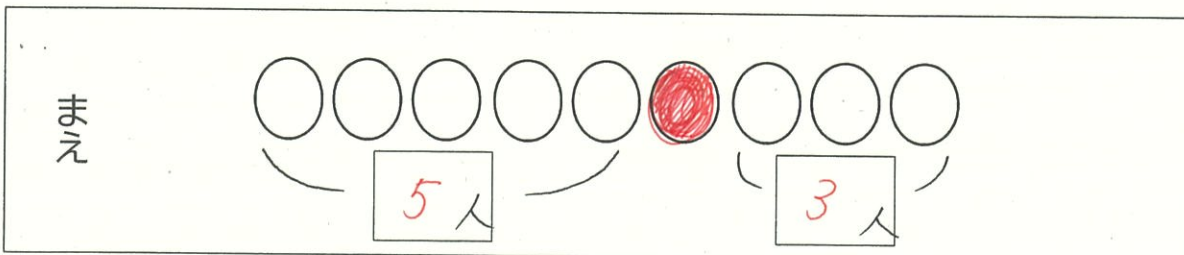
$$10人$$

しき 10点  
こたえ 10点

(2) りかさんの まえには 5人 います。うしろには 3人います。

みんな なん人 いますか。

(ず) りかさんのばしょに いろを ぬりましょう。



(しき)

$$5 + 1 + 3 = 9$$

(こたえ)

$$9人$$