

愛知川小 5分間ステップアップ学習

名前 ()

【学習名】 <p style="text-align: center;">データの活用</p>	<p style="font-size: 12px; margin-top: 5px;">てんいじょう ごうかく 90点以上で合格</p>
【学習のめあて】 データを柱状グラフに表し、データの特徴を読み取ることができる。	
【ふりかえり】 ◎よくわかる ○わかる △わからない	

次の表はある植物16本を、部屋の外で育てたときの高さを調べたものです。

部屋の外で育てたときの高さ															
27	35	29	34	28	36	35	25	32	34	37	38	35	37	34	36

①データを度数分布表に表しましょう。(完答20点)

高さ (cm)	植物の数	
	正の数	本数 (本)
15以上～20未満		
20以上～25未満		
25以上～30未満		
30以上～35未満		
35以上～40未満		
合計	16	

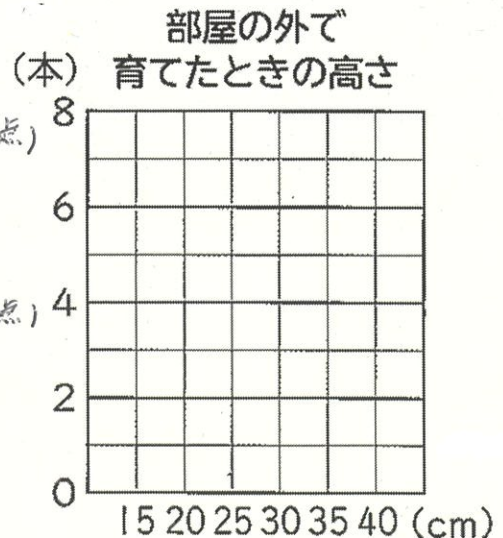
②データを右の柱状グラフに表しましょう。(20点)

③度数が一番多い階級は何cm以上何cm未満ですか。(20点)

④③の階級の人数は全体の人数の何%ですか。(式答20点)


式

答え _____



愛知川小 5分間ステップアップ学習

名前 ()

【学習名】 データの活用	 <small>てんいじょう ごうかく</small> 90点以上で合格
【学習のめあて】 データを柱状グラフに表し、データの特徴を読み取ることができる。	
【ふりかえり】 ◎よくわかる ○わかる △わからない	

次の表はある植物16本を、部屋の外で育てたときの高さを調べたものです。

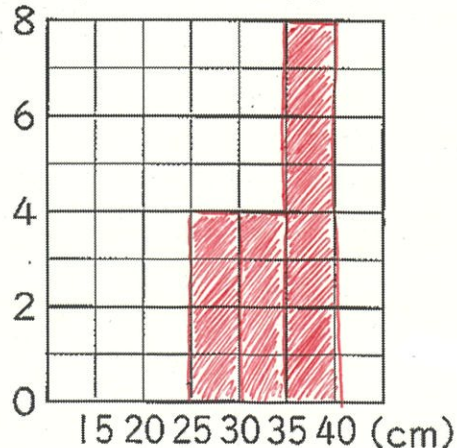
部屋の外で育てたときの高さ															
27	35	29	34	28	36	35	25	32	34	37	38	35	37	34	36

①データを度数分布表に表しましょう。(完答 20点)

高さ (cm)	植物の数	
	正の数	本数 (本)
15以上～20未満		0
20以上～25未満		0
25以上～30未満	正	4
30以上～35未満	正	4
35以上～40未満	正下	8
合計	16	

②データを右の柱状グラフに表しましょう。(20点)

部屋の外で
育てたときの高さ
(本)



③度数が一番多い階級は何cm以上何cm未満ですか。(20点)

35cm以上～40cm未満

④③の階級の人数は全体の人数の何%ですか。(式・答 20点)

式 $8 \div 16 = 0.5$

答え 50%