

愛知川小 5分間ステップアップ学習

名前 ()

【学習名】

角柱と円柱の体積

【学習のめあて】

角柱や円柱の体積を求めることができる。

【ふりかえり】

◎よくわかる

○わかる

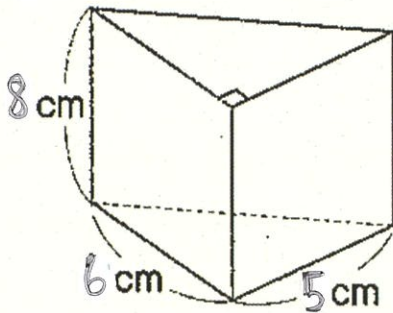
△わからない

100

てんいじょうごうかく
90点以上で合格

① 角柱、円柱の体積 = () × ()

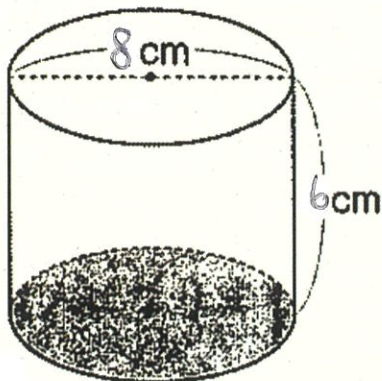
②



式：

答え：

③




式：

答え：

() …各10点、式・答え…各20点

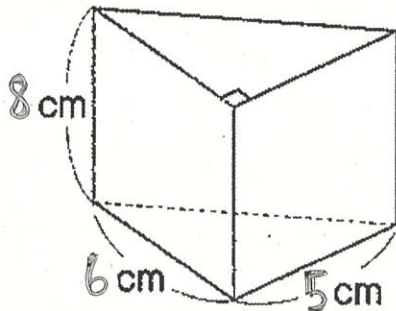
愛知川小 5分間ステップアップ学習

名前 ()

【学習名】 角柱と円柱の体積	 100 <small>てんいじょう ごうかく</small> 90点以上で合格
【学習のめあて】 角柱や円柱の体積を求めることができる。	
【ふりかえり】 ◎よくわかる ○わかる △わからない	

① 角柱、円柱の体積 = (底面積) × (高さ)

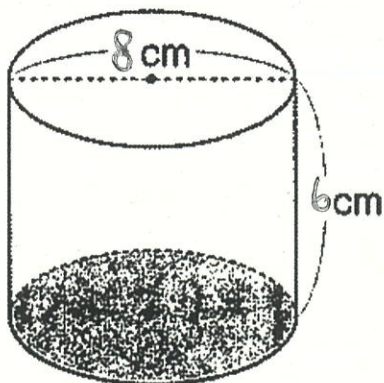
②



式: $6 \times 5 \div 2 \times 8 = 120$

答え: 120 cm^3

③



式: $8 \div 2 = 4$

$4 \times 4 \times 3.14 \times 6 = 301.44$

答え: 301.44 cm^3

() …各10点、式・答え…各20点