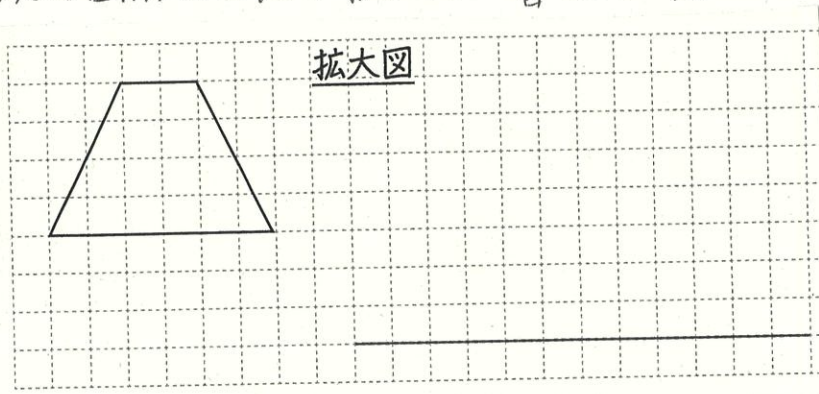


# 愛知川小 5分間ステップアップ学習

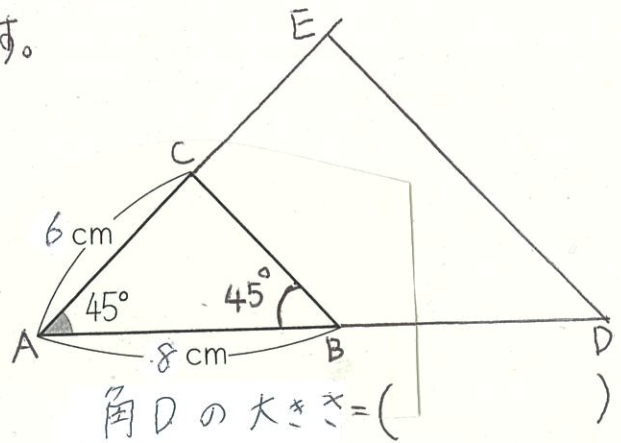
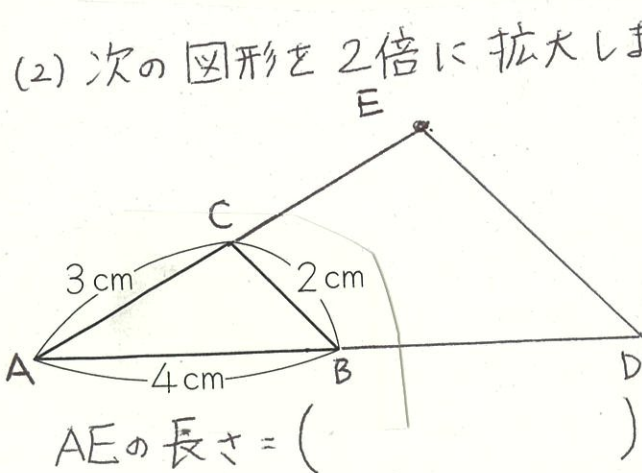
名前 ( )

【学習名】 拡大図と縮図	<div style="font-size: 2em; font-weight: bold;">100</div> <p style="font-size: 0.8em;">てんいじょう とうかく 90点以上で合格</p>
【学習のめあて】 拡大図や縮図を作図することができる。	
【ふりかえり】 ◎よくわかる    ○わかる    △わからない	

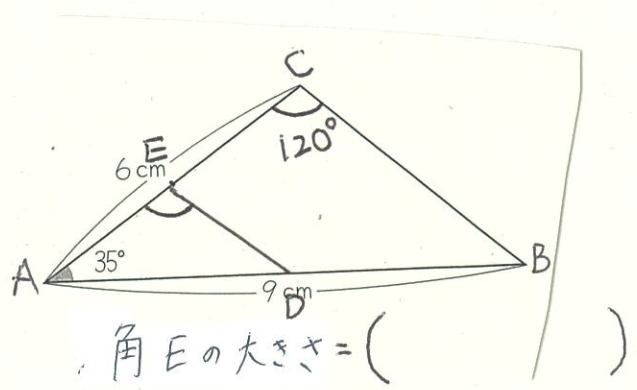
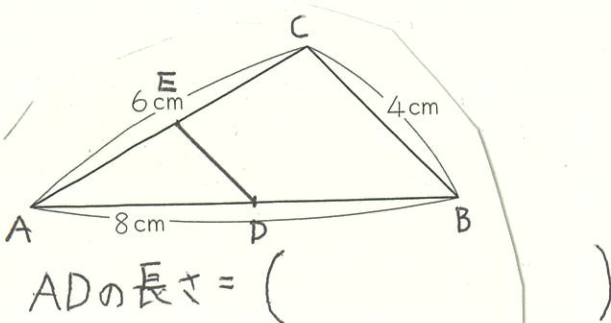
(1) 次の図形の2倍の拡大図を書きましょう。



(2) 次の図形を2倍に拡大します。



(3) 次の図形を $\frac{1}{2}$ に縮小します。

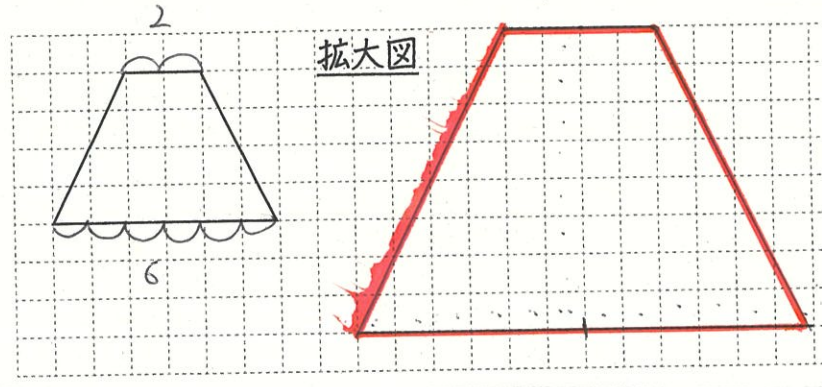


# 愛知川小 5分間ステップアップ学習

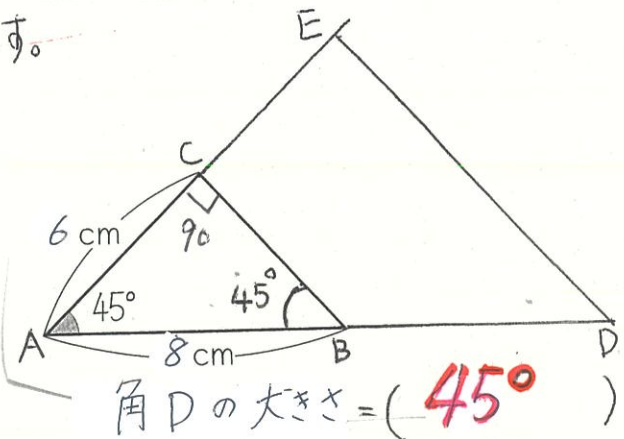
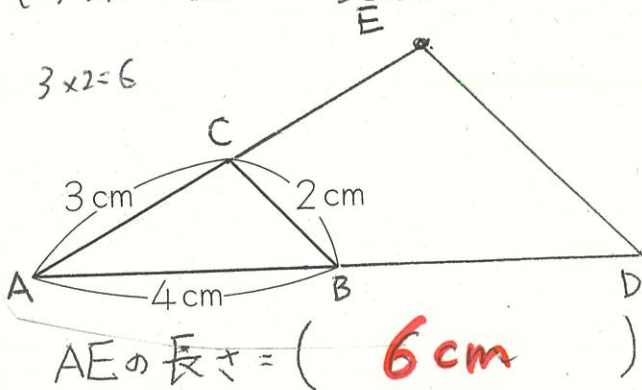
名前 ( )

【学習名】 拡大図と縮図	<div style="font-size: 2em; font-weight: bold;">100</div> <p>90点以上で合格</p>
【学習のめあて】 拡大図や縮図を作図することができる。	
【ふりかえり】 ◎よくわかる    ○わかる    △わからない	

(1) 次の図形の2倍の拡大図を書きましょう。



(2) 次の図形を2倍に拡大します。



(3) 次の図形を1/2に縮小します。

