
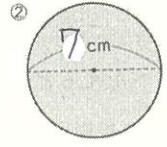
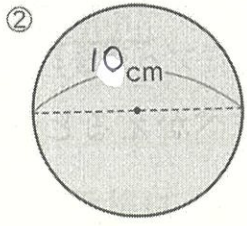
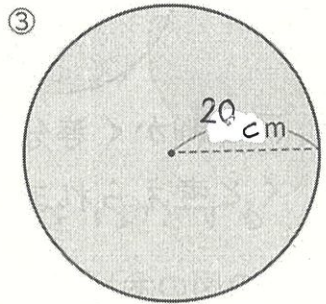
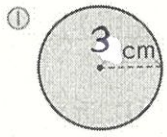


愛知川小 5分間ステップアップ学習

名前 ()

<p>【学習名】 円の面積</p>	 <p>100</p> <p><small>てんいじょう ごうかく</small> 90点以上で合格</p>
<p>【学習のめあて】 公式を使い、円の面積を求めることができる。</p>	
<p>【ふりかえり】 ◎よくわかる ○わかる △わからない</p>	


(1) 次の円の面積は何cm²ですか。式と答えを求めましょう。式：20点 答え：5点



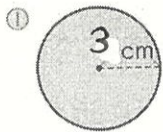
式	答え
式	答え
式	答え
式	答え

愛知川小 5分間ステップアップ学習

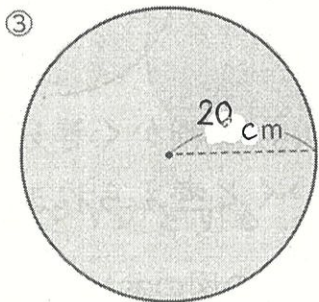
名前 ()

【学習名】 円の面積	 100 <small>てんいじょう ごうかく</small> 90点以上で合格
【学習のめあて】 公式を使い、円の面積を求めることができる。	
【ふりかえり】 ◎よくわかる ○わかる △わからない	

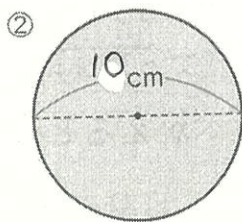
(1) 次の円の面積は何cm²ですか。式と答えを求めましょう。式：20点 答え：5点



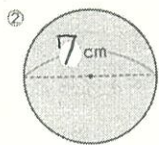
式 $3 \times 3 \times 3.14 = 28.26$	答え 28.26 cm^2
---------------------------------------	----------------------------



式 $20 \times 20 \times 3.14 = 1256$	答え 1256 cm^2
--	---------------------------



式 $10 \div 2 = 5$ $5 \times 5 \times 3.14 = 78.5$	答え 78.5 cm^2
---	---------------------------



式 $7 \div 2 = 3.5$ $3.5 \times 3.5 \times 3.14 = 38.465$	答え 38.465 cm^2
--	-----------------------------