

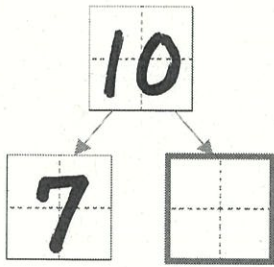
愛知川小 5分間ステップアップ学習

名前 ()

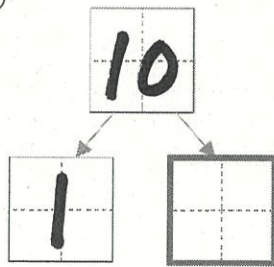
【学習名】 いくつと いくつ	$\frac{\quad}{100}$ <small>てんじょうごうかく</small> 90点以上で合格
【学習のめあて】 10を 2つに わけることができる。	
【ふりかえり】 ◎よくわかる ○わかる △わからない	

◎つぎの かずを 2つに わけましょう。

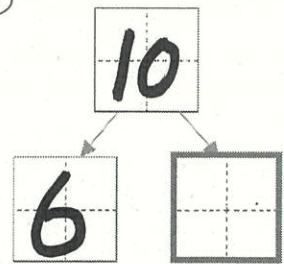
①



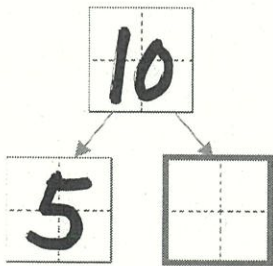
④



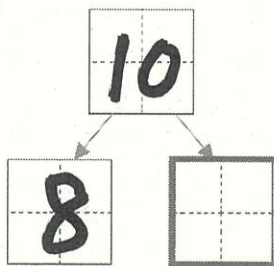
⑦



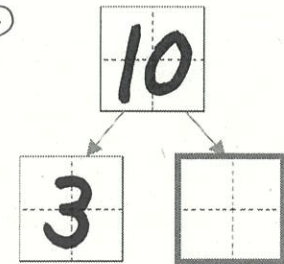
②



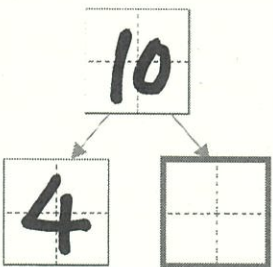
⑤



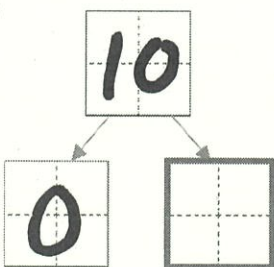
⑧



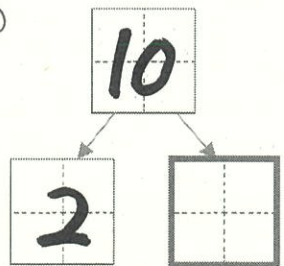
③



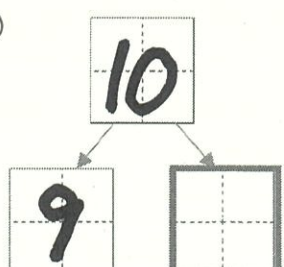
⑥



⑨



⑩



(かく10てん)

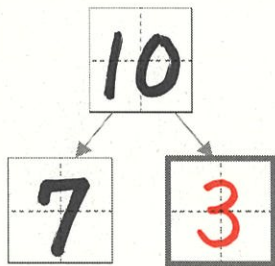
愛知川小 5分間ステップアップ学習

名前 ()

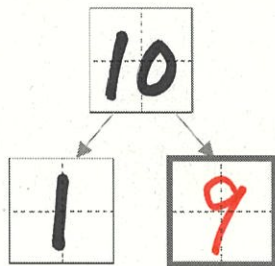
【学習名】 いくつと いくつ	<div style="text-align: right; font-size: 2em;">100</div> <p style="text-align: center; font-size: 0.8em;">てんじょう ごうかく 90点以上で合格</p>
【学習のめあて】 10を 2つに わけることができる。	
【ふりかえり】 ◎よくわかる ○わかる △わからない	

◎つぎの かずを 2つに わけましょう。

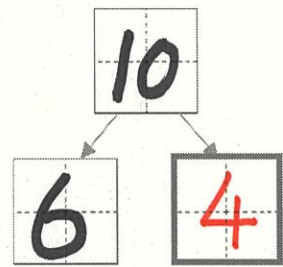
①



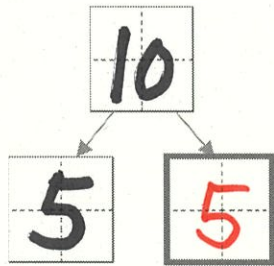
④



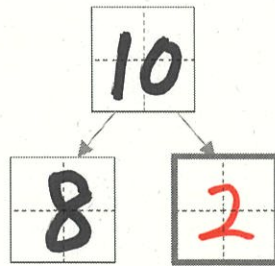
⑦



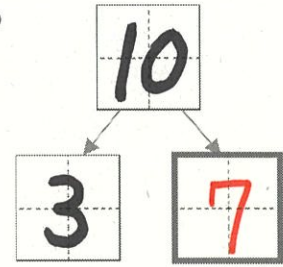
②



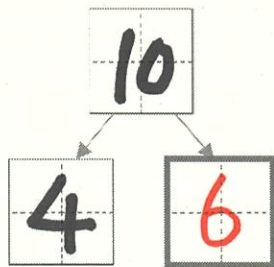
⑤



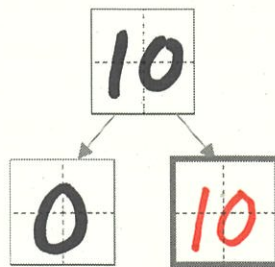
⑧



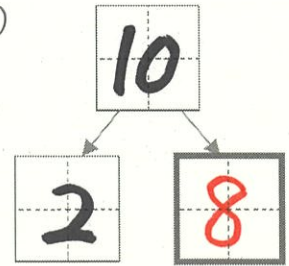
③



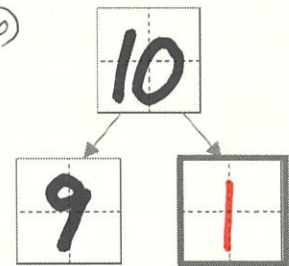
⑥



⑨



⑩



(かく10てん)